

5 学部共通選抜「日本史」

2026 年度入学試験

訂 正 (問 題)

日本史

問題冊子

P2

I 問 4

【誤】 下線部④について、令に規定がなく、

令の制定以後におかれた・・・

【正】 下線部④について、令に規定がなく、


令の制定より後におかれた・・・

2026年度入学試験問題

日本史

(試験時間 10:30~11:30 60分)

1. この問題冊子が、出願時に選択した科目のものであることを確認のうえ、解答してください。
2. 解答用紙は、マーク解答用紙のみです。
3. 解答は、必ず解答欄にマークしてください。解答欄以外にマークすると無効となります。
4. 解答は、HBの鉛筆またはシャープペンシルを使用し、訂正する場合は、プラスチック製の消しゴムを使用してください。特に、一度マークした箇所を修正する場合、しっかりと消してください。消し残りがあると、解答が無効となることがあります。また、消しくずを残さないでください。
5. 解答用紙を折り曲げたり、汚したりしないでください。
6. 解答用紙には、必ず受験番号と氏名を記入・マークしてください。未記入や記入・マークミスなどがあった場合は、当該科目の解答は無効となります。



I 次の〔A〕,〔B〕,〔C〕と〔D〕について、下記の設問に答えなさい。(26点)

〔A〕

日本列島で土器が作られるようになったのは、およそ1万6000年前の^①ことと考えられている。ここから、水稲耕作を伴う弥生文化が始まる約1万3000年にわたる期間を縄文時代とよぶ。水稲耕作は、紀元前8世紀には朝鮮半島から北部九州に伝わっ^②ていたとされる。^③

問1 下線部①の時期は、地質年代でいう第四紀更新世にあたる。その更新世の時期の化石人骨が発見された場所がある都道府県をすべて選び、その記号をマークしなさい。

- a 沖縄県
- b 静岡県
- c 岩手県
- d 秋田県
- e 北海道

問2 下線部②について、遺跡や出土遺物のようすからうかがえるこの時代の生活のようすについて、誤っているものを一つ選び、その記号をマークしなさい。

- a 狩りのための落とし穴がさかんに利用された。
- b 定住住居の痕跡はなく、一定の範囲内を移動していた。
- c 土錘や石錘がみられることから、網を用いた漁労が行われていた。
- d 石皿や磨石がみられることから、木の実をすりつぶして食べていた。
- e 黒曜石やヒスイの分布状況から、かなり遠方の集団との交易も行われていた。

問3 下線部③について、水稲耕作は、弥生時代前期には本州のほぼ北端まで伝わっていた。そのことが知られる遺跡を一つ選び、その記号をマークしなさい。

- a 荒神谷遺跡
- b 菜畑遺跡
- c 垂柳遺跡
- d 砂沢遺跡
- e 登呂遺跡

〔B〕

「日本」という国号は、702年の遣唐使が名のり、当時の中国の皇帝であった武則天が承認したことによって定まったとされる。このころの朝廷は、律令に基づく中国④的な支配制度の実現を目指した。そのなかで、中国にならって自国を中華と位置づけ、日本列島周辺の文化の異なる人々、具体的には、東北地方に位置する蝦夷や、朝鮮半島⑤の新羅や東北アジアに新たに成立した渤海の人々を夷狄とみなした。⑥

問4 下線部④について、令に規定がなく、令の制定以後におかれた官職をすべて選び、その記号をマークしなさい。

- a 勘解由使
- b 参議
- c 大納言
- d 少納言
- e 藏人頭

問5 下線部⑤に関連するイ～ハの出来事を正しく年代順に並び替えたものを一つ選び、その記号をマークしなさい。

- イ 坂上田村麻呂が蝦夷の族長であった阿弭流為を降伏させた。
 - ロ 蝦夷の豪族伊治咎麻呂が蜂起し、多賀城をおそった。
 - ハ 蝦夷対策の拠点として出羽国に秋田城を築いた。
- a イ→ロ→ハ
 - b イ→ハ→ロ
 - c ロ→イ→ハ
 - d ロ→ハ→イ
 - e ハ→イ→ロ
 - f ハ→ロ→イ

問6 下線部⑥を滅ぼした国を一つ選び、その記号をマークしなさい。

- a 高句麗
- b 高麗
- c 北宋
- d 吐蕃
- e 契丹

〔C〕

本能寺の変を経て織田信長の後継者の地位を手に入れた羽柴秀吉^⑦は、1585年に關白に任じられ、翌年には太政大臣を兼ね、加えて豊臣の姓を授けられた。秀吉は軍事力のみならず、朝廷の権威を利用して諸大名を服属させようとし、大名同士の戦争をやめさせようとした。秀吉政権は、経済的基盤で他の大名よりも優位に立ったが、^⑧政権の仕組みはなかなか整わず、秀吉の死とともに有力大名間の対立が表面化した。

問7 下線部⑦に関連して、本能寺の変後、羽柴秀吉が関白に任ぜられるまでの間に滅ぼした人物を一人選び、その記号をマークしなさい。

- a 織田信雄
- b 柴田勝家
- c 武田勝頼
- d 毛利輝元
- e 朝倉義景

問8 下線部⑧に関連して、秀吉政権の政策として誤っているものを一つ選び、その記号をマークしなさい。

- a 石高の算定にあたっては、京枅を統一して採用した。
- b 京都の金工であった後藤家に天正大判を作らせた。
- c サン＝フェリペ号が漂着したことをきっかけに、バテレン追放令を発布した。
- d 琉球王国やマニラのスペイン政庁に対して、国書を送って入貢を求めた。
- e 朝鮮侵攻の前年に武家奉公人が町人・百姓になることを禁じた。

問9 下線部⑨に関連して、秀吉が直轄支配した都市として誤っているものを一つ選び、その記号をマークしなさい。

- a 京都
- b 伏見
- c 博多
- d 長崎
- e 山口

〔D〕 以下の史料X～史料Z（原文から仮名づかい、句読点を加える等適宜修正して
いる）を読み、下記の設問に答えなさい。

（史料X）『甲州法度之次第』（抜粋）

- 一 内儀を得ずして、他国へ音物書札^{（注1）}これを遣わす事、一向にこれを停止し畢
んぬ。但し信州在国の人、謀略の為、一國中通用するは是非無き次第なり。若し
境目の人、日来書状通い来るはこれを禁ずる能わざるか。
- 一 私領、名田の外、恩地領、左右無く沽却^{（注2）}せしむる事、これを停止し訖んぬ。
此の如く制すると雖も、扨無くば、子細を書き上げ、年期を定め、売買せしむ
べき事。
- 一 親類・被官私に誓約せしむるの条、逆心同前^{（注3）}たるべし。但し、戦場の上
に於いては、忠節を励まんが為に盟約を致すは苦しからざるか。
- 一 喧嘩の事、是非に覃ばず成敗を加うべし。但し取り懸ると雖も堪忍^{（注4）}せしむ
るの輩に於いては、罪科に処すべからず。然而、最眞偏頗を以て合力^{（注5）}せし
むる族は、理非を論ぜず同科たるべし。……

（注1）音物書札 贈り物や書状

（注2）沽却 売却すること

（注3）同前 同然

（注4）堪忍 こらえること、我慢すること

（注5）合力 助勢すること

（史料Y）『今川かな目録』（抜粋）

- 一 駿府の中、不入地の事、これを破り畢んぬ。各異儀に及ぶべからず。
- 一 駿・遠両国の輩、或わたくしとして^{（注6）}他国よりよめを取、或はむこに取、
娘をつかわす事、自今以後これを停止し畢んぬ。

（注6）わたくしとして 勝手に

(史料Z)『今川かな目録追加』(抜粋)

- 一 不入の地の事、代々の判形^{はんぎょう}(注7)を戴^{たい}し、各露顕^{ろけん}(注8)の在所の事は沙汰に及ばず。新儀の不入、自今以後これを停止す。……只今はおしなべて、自分の力量を以て、国の法度を申付け、静謐^{せいひつ}する事なれば、しゆごの手入間敷事^{(守護) いるまじき}、かつてあるべからず。兎角^{とかく}の儀あるにおいては、かたく申付くべきなり。

(注7) 判形 大名の花押や印判の入った文書

(注8) 露顕 はっきりとしていること

問10 史料Xに関する文として誤っているものを一つ選び、その記号をマークしなさい。

- a 史料Xを制定した人物は、甲斐の釜無川と御勅使川の合流点付近に信玄堤とよばれる堤防を築いた。
- b 史料Xのなかに、一部の例外を除いて武田氏の許可なく他国に手紙や進物を送ることを禁止する条文がある。
- c 史料Xのなかに、武士が所領を売却するばあいには、事情を明らかにしたうえで年限を定めるべきことを定めた条文がある。
- d 史料Xのなかに、武士が平時だけでなく戦場においても親類や被官と私的に盟約を結ぶことを禁止した条文がある。
- e 史料Xのなかに、喧嘩の一方の当事者に加勢した者は、喧嘩を始めた者たちと同罪とすることを定めた条文がある。

問11 史料Y・史料Zに関する文として誤っているものを一つ選び、その記号をマークしなさい。

- a 史料Y・史料Zを制定した今川氏は、四職とよばれる有力守護家の一つであった。
- b 史料Yのなかに、今川氏の城下町において、守護の不入地を否定する条文がある。
- c 史料Yのなかに、今川氏の家臣が許可を得ずに他国の者と婚姻関係を結ぶことを禁止する条文がある。
- d 史料Zのなかで、すでに守護使不入の特権が認められているところについては、引き続きその特権が認められている。
- e 史料Zのなかで、今川氏が自らの実力で支配地域の平和を守っているので、守護の手が入らない場所はあると主張されている。

問12 下線部⑩の国と陸上で境界を接しない国をすべて選び、その記号をマークしなさい。

- a 美濃
- b 三河
- c 尾張
- d 上野
- e 下野

問13 史料X～史料Zのような、戦国大名が制定した法令を分国法というが、分国法を制定した大名とその領国の組み合わせとして誤っているものを一つ選び、その記号をマークしなさい。

- a 伊達氏—陸奥
- b 北条氏—相模
- c 六角氏—近江
- d 相良氏—豊後
- e 長宗我部氏—土佐

Ⅱ 次の〔A〕, 〔B〕の文章を読んで、下記の設問に答えなさい。(24点)

〔A〕

1651年江戸幕府の3代将軍(①)が没し、徳川家綱が4代将軍となった。幕府は、この年、兵学者由井(由比)正雪の乱(慶安の変)を未然に防ぎ、1657年に起こった明暦の大火による大きな被害から復興を果たしていった。幕政は、将軍徳川家綱をその叔父保科正之が支え、安定していった。

1680年4代将軍徳川家綱が没し、徳川綱吉が5代将軍となった。将軍徳川綱吉は、江戸に湯島聖堂を建てるなど儒学を重視し、文治主義の政治へと転換させ、幕政はさらに安定するようになる。将軍徳川綱吉の時代は、その中心が元禄年間(1688~1704)のため元禄時代ともいわれ、この時代を中心とする文化を元禄文化という。しかし、幕政の安定のいっぽうで、元禄時代は幕府財政悪化の時代でもあった。勘定吟味役(のちに勘定奉行)の(⑥)は、幕府収入増加のために金の含有率を低下させた元禄小判発行を上申、徳川綱吉はそれを実行した。そのために、貨幣価値が下落し、物価が騰貴、人々の生活を圧迫した。

問1 空欄①について、正しい人物を一人選び、その記号をマークしなさい。

- a 徳川秀忠
- b 徳川慶喜
- c 徳川家宣
- d 徳川家光
- e 徳川吉宗

問2 下線部②について、正しいものを一つ選び、その記号をマークしなさい。

- a 会津藩主保科正之は、4代将軍徳川家綱だけではなく、5代将軍徳川綱吉を支え、儒学を重視した幕政を行なった。
- b 会津藩主保科正之は、側用人柳沢吉保とともに、4代将軍徳川家綱を支えた。
- c 会津藩主保科正之が4代将軍徳川家綱を支えた時代、武家諸法度（寛永令）を発布した。
- d 会津藩主保科正之は、仏教者を登用し、藩政を刷新した。
- e 会津藩主保科正之は、儒者を登用し、藩政を刷新した。

問3 下線部③について、正しいものを一つ選び、その記号をマークしなさい。

- a 湯島聖堂では、林羅山を大学頭とし、儒学の講義を行なった。
- b 湯島聖堂では、荻生徂徠を大学頭とし、儒学の講義を行なった。
- c 湯島聖堂では、林鳳岡（信篤）を大学頭とし、儒学の講義を行なった。
- d 湯島聖堂では、歴史書の『読史余論』の編纂を行なった。
- e 湯島聖堂では、歴史書の『大日本史』の編纂を行なった。

問4 下線部④について、誤っているものを一つ選び、その記号をマークしなさい。

- a 俳諧では、伊賀出身の松尾芭蕉が蕉風俳諧を確立した。
- b 文学では、江戸の町人文学が主流で、井原西鶴・近松門左衛門などがいた。
- c 儒学では、山鹿素行・伊藤仁斎らによって、古学派が形成された。
- d 実学として農学が発達し、宮崎安貞の『農業全書』が著された。
- e 契沖が『万葉集』を研究し、国文学を発達させた。

問5 下線部⑤について、その理由として誤っているものをすべて選び、その記号をマークしなさい。

- a 明暦の大火からの復興のため、幕府の財政支出が増大したため。
- b 寺社の造営・修復のため、幕府の財政支出が増大したため。
- c 備中鋤・唐箕・千石どおしなどの農具の改良のため、幕府の財政支出が増大したため。
- d 佐渡金山などの鉱山からの金銀産出量が減少したため。
- e 新田開発により、農業生産高は増大したが、年貢増収には結びつかなかったため。

問6 空欄⑥について、正しい人物を一人選び、その記号をマークしなさい。

- a 新井白石
- b 間部詮房
- c 大蔵永常
- d 萩原重秀
- e 大岡忠相

〔B〕

1830年代、幕政は動揺の時代をむかえる。

1833年、天保の大飢饉が起こり、困窮した人々があふれ、餓死者さえも出た。

1837年、大塩平八郎が大坂で武力反乱を起こし、幕府に衝撃を与えた。

同じ1837年、アメリカ合衆国の（⑨）が、浦賀に来航し、日本人漂流民を護送し、通商を求めたが、幕府は異国船打払令にもとづき攻撃した。この攻撃事件に対して、1838年、渡辺崋山が（⑩）を、高野長英が（⑪）を書いて幕政を批判したため、1839年、幕府は彼らを捕らえた。これを蛮社の獄という。

このような内憂外患のなか、1841年大御所として実権をふるっていた11代将軍徳川家斉が亡くなる。12代将軍徳川家慶のもと、老中水野忠邦が天保の改革を行なう。しかし、天保の改革は失敗に終わり、幕府の衰退を示すものとなった。いっぽう、諸藩のなかには、藩政改革により藩権力を強め、幕末の政局に強い発言権を持つ雄藩が登場するようになる。

問7 下線部⑦について、正しいものを一つ選び、その記号をマークしなさい。

- a この大飢饉の原因は、冷害などによる凶作のためであった。
- b この大飢饉の原因は、いなご・うんかなど害虫の大量発生による凶作のためであった。
- c この大飢饉の原因は、異国船打払令により物資が江戸に集中したためであった。
- d 老中松平定信は、この大飢饉で危機に陥った農村復興に尽力した。
- e 老中水野忠邦は、社倉・義倉を設置させ農村復興に尽力した。

問8 下線部⑧について、正しいものを一つ選び、その記号をマークしなさい。

- a 幕府は、この武力反乱を鎮圧するために、1ヶ月間を要した。
- b 大塩平八郎は朱子学者で、その思想の実践のためにこの武力反乱を起こした。
- c 大塩平八郎は、大坂町奉行所の元与力であった。
- d この武力反乱に影響を受け、越中富山の国学者生田万が武力反乱を起こした。
- e この武力反乱に影響を受け、長州藩の吉田松陰が尊王攘夷運動を開始した。

問9 空欄⑨について、正しいものを一つ選び、その記号をマークしなさい。

- a ポーハタン号
- b ミズーリ号
- c リーフデ号
- d モリソン号
- e フェートン号

問10 空欄⑩と空欄⑪について、両者の組み合わせとして正しいものを一つ選び、その記号をマークしなさい。

- a ⑩『慎機論』—⑪『経世秘策』
- b ⑩『経世秘策』—⑪『戊戌夢物語』
- c ⑩『戊戌夢物語』—⑪『経世秘策』
- d ⑩『戊戌夢物語』—⑪『慎機論』
- e ⑩『慎機論』—⑪『戊戌夢物語』

問11 下線部⑫について、誤っているものを一つ選び、その記号をマークしなさい。

- a 幕府は、物価騰貴の原因を株仲間による流通独占と考え、株仲間の解散を命令した。
- b 幕府は、江戸・大坂周辺を直轄地にした。
- c 幕府は、農村の復興をはかるため、江戸に流入した貧民を帰郷させる人返し（人返し）の法を出した。
- d 幕府は、儉約令を出して、ぜいたく品や華美な服装を禁止、庶民の風俗も統制した。
- e 幕府は、経済的に困窮する旗本・御家人を救済するために、棄捐令を出した。

問12 下線部⑬について、誤っているものをすべて選び、その記号をマークしなさい。

- a 薩摩藩（鹿児島藩）では、調所広郷が藩財政再建に着手し、成功をおさめた。
- b 長州藩（萩藩）では、村田清風が藩財政の借財を整理、商品の委託販売などで収益をあげ、財政再建を成功させた。
- c 肥前藩（佐賀藩）では、藩主鍋島直正のもと陶磁器などの専売制により、藩財政を再建したが、洋式大砲製造のための反射炉造営には成功しなかった。
- d 水戸藩では、藩主徳川家斉をはじめ藤田幽谷・平田篤胤などの学者が尊王攘夷論を説き、幕末の思想に大きな影響を与えた。
- e 越前藩（福井藩）・宇和島藩では、有能な中・下級武士を藩政の中枢に登用し、商人との連携を強め、藩政改革と藩財政再建に成功した。

Ⅲ 次の〔A〕,〔B〕の文章を読んで、下記の設問に答えなさい。(24点)

〔A〕

1859年、開港後、江戸幕府は、物価高の抑制を理由に貿易の統制をはかろうとした。しかし、在郷商人や商取引の自由を主張する列国の反対で効果はあがらなかった。また、日本と外国との貨幣や貴金属の価値のバランスが違ったため、幕府はその違いを^①国際的比率に近づけるために貨幣改鋳を行ったが、貨幣価値の下落が物価の上昇をまねき、国内経済はいっそう混乱した。

明治時代にはいり、明治政府は、経済の基礎となる統一的な貨幣制度を確立するため、^②1871年に新貨条例を公布し、硬貨を発行した。また、渋沢栄一が中心となって^③国立銀行条例を公布し、近代的な金融制度の基礎をととのえていったが、兌換制度の^④確立にはいたらなかった。1873年から1880年までに就任した大蔵卿であった人物の^⑤(ア) 財政では、西南戦争の戦費調達のため、不換紙幣を乱発した。これにより貨幣流通量が増え、紙幣の価値が急落した。このため激しいインフレーションが生じた。そこで1881年に就任した^⑥大蔵卿は、官営事業の整理を含めて財政を緊縮し、租税として回収した紙幣の一部を消却するデフレ政策をとった。しかし、この政策によるデフレーションは不況をもたらした。

問1 下線部①に関連して、次の文章の空欄①～④にあてはまる語句の組み合わせとして適切なものを、次のa～eから一つ選び、その記号をマークしなさい。

1859年頃当時、外国人の本国では、(①)に対する(②)の相対的な価値が日本のそれと比べて(③)ため、外国人は(①)を日本に持ち込んで、日本で(②)に交換して、本国に持ち帰った。そのため、大量の(④)が日本から海外に流出した。

- a ① 銀貨 ② 金貨 ③ 高い ④ 金貨
- b ① 金貨 ② 銀貨 ③ 高い ④ 銀貨
- c ① 銀貨 ② 金貨 ③ 低い ④ 金貨
- d ① 銀貨 ② 金貨 ③ 低い ④ 銀貨
- e ① 銀貨 ② 金貨 ③ 高い ④ 銀貨

問2 下線部②に関連して、下記ア～オの事柄を年代順に正しく配列したものを、次のa～eから一つ選び、その記号をマークしなさい。

- ア 工部省の設立
 - イ 地租改正条例の公布
 - ウ 日本銀行の設立
 - エ 金禄公債証書の発行
 - オ 国立銀行条例の制定
- a ア→イ→ウ→エ→オ
 - b ア→オ→イ→エ→ウ
 - c イ→ア→エ→ウ→オ
 - d ウ→イ→エ→ア→オ
 - e エ→ウ→イ→ア→オ

問3 下線部③に関連して、明治時代の新貨条例（1871年）によって採用された、十進法に基づく貨幣単位として正しいものを、次のa～eからすべて選び、その記号をマークしなさい。

- a 円
- b 銭
- c 厘
- d 貫
- e 文

問4 下線部④に関連して、1884年に公布された兌換銀行券条例に基づき、1885年から日本銀行は下の図のような日本銀行券を発行した。このような日本銀行券は大日本帝国憲法発布時点において、何と兌換することができたか。次のa～eから最も適切なものを一つ選び、その記号をマークしなさい。



(出典：佐藤信ほか『詳説 日本史』山川出版社，2024年，280ページ。)

- a 金貨
- b 銀貨
- c 銅貨
- d 鉄貨
- e 白金貨

問5 下線部⑤に関連して、空欄（ア）にあてはまる人物名として最も適切なものを、次のa～eから一つ選び、その記号をマークしなさい。

- a 大隈
- b 松方
- c 高橋
- d 植田
- e 井上

問6 下線部⑥に関連して、1881年に大蔵卿に就任した人物は増税を行った。このときに新設した税を、次のa～eからすべて選び、その記号をマークしなさい。

- a 醤油税
- b 酒造税
- c 煙草税
- d 菓子税
- e 消費税

〔B〕

明治政府は、日清戦争の勝利で清から巨額の賠償金を得た。政府は、これをもとに、金融・貿易の制度面の整備を進めた。これにより、貿易の規模は、産業革命の進展にともなって拡大した。また、日露戦争後、政府は外債募集を拡大するとともに各種の増税を行ったが、政府の保護のもとに民間重工業は発達しはじめた。その後、日本は不景気に直面したが、第一次世界大戦の勃発によって、日本経済は日露戦争以来の不景気とうってかわって、空前の好景気をむかえた。そして、戦争による世界的な船舶不足から海運業・造船業が空前の好況となり、日本はイギリス・アメリカにつぐ世界第3位の海運国となった。

問7 下線部⑦に関連して、1899年に、中国に関して、門戸開放・機会均等を唱えたアメリカの国務長官を、次のa～eから一人選び、その記号をマークしなさい。

- a ジョン＝ヘイ
- b ウッドロウ＝ウィルソン
- c コーデル＝ハル
- d セオドア＝ローズヴェルト
- e エイブラハム＝リンカーン

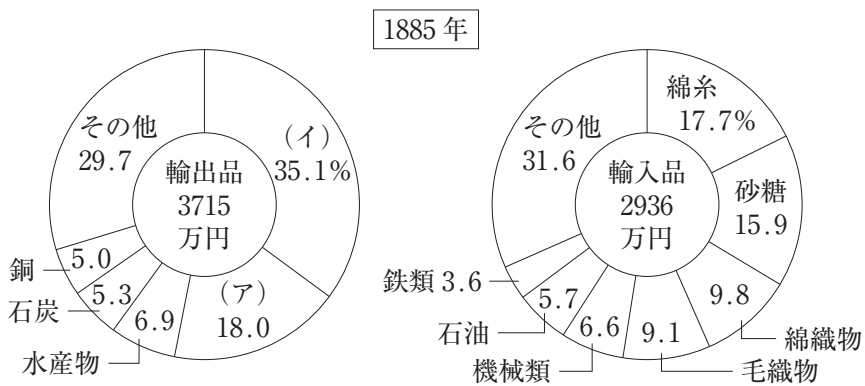
問8 下線部⑦に関連して、日清戦争前後に関する正しい記述を、次のa～eからすべて選び、その記号をマークしなさい。

- a 日清戦争は日本の勝利に終わり、1895年、日本全権伊藤博文・小村寿太郎と清の全権李鴻章とのあいだで下関条約が結ばれて講和が成立した。
- b 甲午農民戦争は、民衆宗教である東学を信仰する全琫準らが農民軍を率いた大反乱であった。
- c 下関条約で、清は、朝鮮の独立や賠償金2億両の支払いを認めた。
- d 1885年、明治政府は伊藤博文を大連に派遣し、清の全権李鴻章とのあいだで大連条約を結んだ。
- e 1895年には清側の北洋艦隊が威海衛で日本軍に降伏し、日本の勝利は決定的となった。

問9 下線部⑧に関連して、次の円グラフは1885年当時の日本における輸出入品目の割合を示したものである。

- ① 空欄(ア)に該当する品目
② 空欄(イ)に該当する品目の1913年当時の輸出相手最大国

この二つの組み合わせとして最も適切なものを、次のa～fから一つ選び、その記号をマークしなさい。



(出典：東洋経済新報社編「日本貿易精覧」より作成されたグラフを佐藤信ほか『詳説 日本史』山川出版社から抜粋，2024年，234ページ。)

- a 蚕卵紙—中国
- b 蚕卵紙—イギリス
- c 生糸—中国
- d 生糸—アメリカ
- e 緑茶—イギリス
- f 緑茶—アメリカ


問10 下線部⑨に関連して、下記ア～オの事柄を年代順に正しく配列したときに、古い順から2番目と4番目に当たる事柄の組み合わせを、次のa～eから一つ選び、その記号をマークしなさい。

- ア 米騒動
- イ 金輸出の禁止
- ウ 関東大震災
- エ 戦後恐慌
- オ ジーメンス事件

(2番目, 4番目)

- a (ア, ウ)
- b (イ, エ)
- c (イ, ウ)
- d (ウ, オ)
- e (エ, ア)

問11 下線部⑨に関連して、下記の写真は日露戦争後の1913年2月に、日比谷に集まった民衆をうつしたものである。これに関連する内容について正しい記述を、次のa～eから一つ選び、その記号をマークしなさい。



(出典：渡辺晃宏ほか『日本史探究』東京書籍，2024年，239ページ。)

- a 不平等条約の改正交渉を有利にするため、外国要人接待の社交場として東京日比谷に鹿鳴館を建設したことに対する反対運動のため、民衆が日比谷に集まった。
- b 数万の民衆は、議会を無視した内閣に対して退陣を迫り、帝国議会を取り囲み、桂首相は総辞職した。
- c 賠償金がまったくとれないポーツマス条約に不満を爆発させ、講和条約調印の日に開かれた講和反対国民大会は暴動化し、日比谷焼き討ち事件が起きた。
- d 戦争が始まると、国民は、勝利を伝える新聞報道やラジオニュースに熱狂し、マニラやシンガポールが陥落すると日比谷公園で祝賀国民大会が開催された。
- e 樺太に持っていた一切の権利をロシアにゆずり、そのかわりに千島全島を領有する内容を持つポーツマス条約に不満をもった民衆が日比谷に集まった。

問12 下線部⑩に関連して、イギリスの外交政策に関して正しい記述を、次の a～e からすべて選び、その記号をマークしなさい。

- a 19世紀のイギリスは、ヨーロッパ大陸から距離をおき、モンロー宣言に代表される孤立外交政策をとっていた。
- b 1904年にはドイツをおさえるために英仏協商を結び、フランスとの長い対抗関係を解消した。
- c 1902年にはイギリスは、極東でのロシアの進出に対抗すべく、日本と日英同盟を結んだ。
- d 1907年にはイギリスはロシアと英露協商を結び、イランを両国の勢力圏に分割し、アフガニスタンを自国の勢力圏とした。
- e 1882年に結ばれたドイツ・オーストリア・イタリアの三国同盟に対抗して、イギリスはフランスとアメリカとの三国協商を成立させようとしていた。

Ⅳ 次の文章を読んで、下記の設問に答えなさい。(26点)

1945年10月には、世界大戦の再発を防げなかった国際連盟にかわり、 ① 連合51カ国が参加して国際連合(国連)が発足した。 国連は安全保障理事会を設け、平和の破壊に対し、軍事行動の実施を含む強制措置を発動できる強い権限を付与した。

② 連合は、降伏した枢軸国に対して、政治や社会の体制をかえるため、占領をはじめ

③ 日本は、ポツダム宣言に基づいて連合に占領されることになった。 1945年8月末に進駐した連合軍最高司令官マッカーサー元帥は、東京に④ 連合軍総司令部(GHQ) ⑤ において、占領政策を実施した。 GHQは、占領政策の基本方針といえる⑥ 五大改革指令を幣原首相に指示し、民主化政策に本格的に着手した。

⑦ 第二次世界大戦後、アメリカを中心とする西側陣営とソ連を中心とする東側陣営との間には、冷戦体制が確立されていった。 朝鮮戦争で日本の戦略的価値を再認識したアメリカは、日本を西側陣営の一員に組み入れることを急いだ。日本国内には⑧ 全面講和論も存在したが、 第3次吉田茂内閣は、早期講和を選択し、1951年9月、日本は、⑨ サンフランシスコ平和条約に調印し、 ⑩ 1952年4月に同条約が発効した。

⑪ 一連の占領改革により、個人の解放・民主化という新しい理念が広められ、アメリカ的な生活様式や大衆文化が受け入れられていった。 映画は黄金期を迎え、日本人映画監督の作品が、⑫ 国際的な映画祭で受賞した。 ⑬

問1 下線部①に関して、次の説明のうち、正しいものにはイ、誤っているものにはロをマークしなさい。

- a 1920年設立の国際連盟では、日本は常任理事国になった。
- b 国際連合の安全保障理事会では、重要な決議を通過させるためには、常任理事国5カ国と非常任理事国10カ国(当初は6カ国)のうち9カ国の賛成を要するが、常任理事国が反対票を投じると決議は不成立となる。
- c 連合が長期の占領を行ったのは、ヴェルサイユ条約の失敗を経験したことが大きな要因であった。

問2 下線部②に関して、次の説明のうち、正しいものにはイ、誤っているものにはロをマークしなさい。

- a ポツダム宣言には、アメリカ大統領フランクリン＝ローズヴェルト、イギリス首相チャーチル、ソ連共産党書記長スターリンが会談して決めたカイロ宣言の履行がもりこまれた。
- b ポツダム宣言は、主要交戦国であるアメリカ・イギリス・フランス・ソ連の協議をふまえてとりまとめられたものである。
- c ポツダム会談前の1945年2月に行われていたヤルタ会談では、ドイツの戦後処理問題について協定が締結され、ソ連の対日参戦と南樺太の返還、千島列島の譲渡などを約す秘密協定が結ばれた。

問3 下線部③に関して、連合国による日本占領政策の最高決定機関としてワシントンに極東委員会が設置された。極東委員会の構成国だった国はイ、構成国ではなかった国にはロをマークしなさい。

- a オランダ
- b ニュージーランド
- c インドネシア
- d フィリピン

問4 下線部④に関して、次の説明のうち、正しいものにはイ、誤っているものにはロをマークしなさい。

- a 日本の占領は、連合国による直接統治の方法がとられた。
- b 沖縄については、1972年の日本復帰までアメリカの施政権下にあった。
- c 史上唯一の皇族内閣である東久邇宮内閣は、「一億総懺悔」「国体護持」を唱え、占領政策と対立した。

問5 下線部⑤に関して、五大改革指令で示された基本方針に基づき実施された施策に該当するものについてはイ、該当しないものについてはロをマークしなさい。

- a 財閥解体
- b 特別高等警察の廃止
- c 工場法の制定
- d 教育制度の自由主義的改革

問6 下線部⑥に関して、次の説明のうち、正しいものにはイ、誤っているものにはロをマークしなさい。

- a 幣原は加藤高明内閣で外務大臣を務めたが、加藤は、大日本帝国憲法下で、選挙結果によって首相となった唯一の例である。
- b 幣原は、外務大臣として日ソ基本条約を締結して、ソ連との国交を樹立した。
- c 日本全権の一人として幣原が加わったワシントン会議で締結されたワシントン海軍軍備制限条約では、主力艦の保有比率をアメリカ・イギリス各5，日本3，フランス・ドイツ各1.67とされ、日本では戦艦土佐の建造が中止になった。

問7 下線部⑦に関して、第二次世界大戦後に結ばれた同盟関係で、2024年末時点で存続しているものにはイ、存在しないものにはロをマークしなさい。

- a 中ソ友好同盟相互援助条約
- b 北大西洋条約機構
- c ワルシャワ条約機構
- d 日華平和条約

問8 下線部⑧に関して、以下に示す人物で全面講和論を唱えたものにはイ、そうでないものにはロをマークしなさい。

- a 南原繁
- b 矢内原忠雄
- c 鈴木貫太郎
- d 美濃部達吉

問9 下線部⑨に関して、次の説明のうち、正しいものにはイ、誤っているものにはロをマークしなさい。

- a サンフランシスコ平和条約調印に伴い、日本は主権を回復した。
- b サンフランシスコ平和条約調印と同日、日米安全保障条約が締結された。
- c 日本軍の占領を受けた東南アジア4カ国のうち、ベトナムへの戦時賠償協定締結とその履行は、ベトナム戦争終結後に行われた。

問10 下線部⑩に関して、日本を含めてサンフランシスコ平和条約に調印した国は何カ国か。正しいものを一つ選び、その記号をマークしなさい。

- a 24カ国
- b 36カ国
- c 41カ国
- d 49カ国

問11 下線部⑪に関して、サンフランシスコ平和条約発効時に、日本の施政権下にあった地域にはイ、施政権下になかった地域にはロをマークしなさい。

- a 硫黄島
- b 奄美群島
- c 小笠原諸島
- d 伊豆諸島

問12 下線部⑫に関して、占領期の文化に関する説明として正しいものにはイ，誤っているものにはロをマークしなさい。

- a 文化財保護法は、金閣寺焼失がきっかけになって制定された。
- b 湯川秀樹が、日本人で最初のノーベル賞を受賞した。
- c ラジオ放送は、1925年に日本放送協会（NHK）により開始されていたが、1953年には、NHK・民間放送会社によるテレビ放送が開始した。
- d 大岡昇平は、『俘虜記』・『野火』・『真空地帯』などの戦記文学で高い評価を得た。

問13 下線部⑬に関して、溝口健二監督の「西鶴一代女」が受賞した国際映画祭はどれか。次に示す中から正しいもの一つを選び、その記号をマークしなさい。

- a カンヌ国際映画祭
- b ロカルノ国際映画祭
- c ワルシャワ国際映画祭
- d ヴェネツィア国際映画祭

