


2026年度入学試験問題

世界史

(試験時間 13:25～14:25 60分)

1. この問題冊子が、出願時に選択した科目のものであることを確認のうえ、解答してください。
2. 解答用紙は、マーク解答用紙のみです。
3. 解答は、必ず解答欄にマークしてください。解答欄以外にマークすると無効となります。
4. 解答は、HBの鉛筆またはシャープペンシルを使用し、訂正する場合は、プラスチック製の消しゴムを使用してください。特に、一度マークした箇所を修正する場合、しっかりと消してください。消し残りがあると、解答が無効となることがあります。また、消しくずを残さないでください。
5. 解答用紙を折り曲げたり、汚したりしないでください。
6. 解答用紙には、必ず受験番号と氏名を記入・マークしてください。未記入や記入・マークミスなどがあった場合は、当該科目の解答は無効になります。



- I イギリスの初代駐日総領事オールコックに関する以下の文章を読み、設問に答えなさい（引用文には、省略したり、改めたりしたところがある）。なお、本文中の〔 〕は註釈を示す。（20点）

オールコックがのちに著書の『大君の都』で描いたところによって、このとき〔＝1859年7月1日に横浜を訪ねた時〕の様子をみてみよう。

二人のまじめくさった顔つきの官吏が「税関」の席に正座し、^{はかり}秤とおもりが置いてあり、それからきらきら光る新しい硬貨が山積みしてあった。これは「条約にもとづいて」ドル貨と両替するために用意された日本の通貨だとのことである。^①われわれ一行のうち何人かは、商店を見にゆくつもりだったので、話を聞くとすぐ、その通貨を持っておきたいと思い、ドル貨を空の秤皿に投げいれて、一枚につき美しい硬貨を二つ手に入れた。これは、条約の規定に定められているとおおり、きわめて正確に「同量」だった。

いくつか説明が必要である。「条約にもとづいて」というのは、通貨の「同種同量」^②交換、銀貨なら銀貨、金貨なら金貨を同じ量で引き換えるという条項である。つまり持参したドル貨幣1枚を両替したところ、まったく同じ重量の硬貨2枚〔＝^{にしゅ}二朱銀2枚＝四朱。二朱銀は江戸時代の銀貨の一種〕に引き換えられた。この硬貨は新たに鑄造された二朱銀であり、外国人がみたことのないものである。

ところがこれで買い物をしようとするや、たちまちトラブルになった。重さでいえば1ドルは^{いちぶざん}一分銀〔＝一分銀は江戸時代の銀貨の一種〕3枚にあたるので、「同種同量」交換の条項によって外国人は1ドルに三分の価値があると思っている。そこで六分の値段の手箱を買おうとして、2ドルを出すと、店は受け取ってくれない。日本の貨幣でないとダメだという。そこで2ドルにあたる二朱銀4枚〔＝八朱〕を出したら足りないといわれた。どれだけ不足かといえば、二朱銀があと8枚〔＝十六朱〕いるらしい。

当然である。江戸時代の貨幣は四進法。一分は四朱に相当するため、六分なら二十四朱必要だからである。しかしオールコック一行は驚いた。二朱銀2枚で一分が1ドルに相当するならば、外国人が考えていた1ドル＝三分のレートからすると、3分の1しかない。

そこでオールコックはハリスと協議連携して、幕府に厳重な抗議を申し入れた。二朱銀との交換を拒否、^③条約の規定どおり、1ドル=三分の「同種同量」レートを守ろう求めたのである。オールコックはハリスとともに、二朱銀の使用を拒み通して、幕府を屈服させる。その結果はじまったのが、金小判の^{とうとう}滔々たる流出だった。1859年9月末のことである。

当時の欧米の一般的な金銀比価 [=金と銀の価値の比率] はおよそ1対16、ところが日本では金一両が四分であり、これを一分銀との金銀比価でいえば、1対5。3倍以上（A）のである。なぜそんな格差が出たのかといえ、当時の貨幣体系にまでさかのぼってみる必要がある。

「分」というのも「朱」というのも、もともとは金貨の単位である。四朱で一分、四分で小判一両のはずだが、二朱銀にせよ一分銀にせよ、まぎれもない銀貨であった。そこが重要である。

^④18世紀の初め、正徳・享保以来のデフレーションに苦しんだ幕府は、悪貨に改鑄し通貨供給を増大させて、景気を好転させる政策に転換した。この政策を全面的におしすすめたのが、田沼意次である。かれが発行した通貨に、^{なんりょう}南鑊二朱銀というものがある。「二朱」なので金貨の代用品であり、無条件に8枚で一両小判に交換するものだが、素材は銀だった。もちろん金で二朱を造るよりはるかに安く、大量にできる。田沼はこの改鑄で得た差益で財政を潤すと同時に、通貨を増やして（B）に誘導しようとしたわけであり、それはおおむね成功した。だからその額面は、そもそも貨幣素材の価値から大きくかけ離れたものだった。つまり「一分」とは、あくまで（C）に誘導する額面であって、純銀の量や銀貨の素材価値をあらわしたものではない。

ともかく1859年の横浜では、3倍以上（D）になった。銀5グラムで金1グラムが入手できる。その金を海外にもっていけば、銀16グラムに換わって、倍以上の利益が得られた。横浜から大量の金貨が持ち出されたのも、いわば当然のなりゆきだったのである。

この事態に直面したオールコックは、さすがに坐視できなかった。開港はしたものの、金の流出ばかりで、正常な貿易活動が、まったく軌道に乗らなかったからである。かれは幕府に対して金銀比価を^⑤国際水準に改定するよう迫った。幕府も逡巡をかさね

たあげく、1860年2月11日にこの要求をいれて、金貨を改鑄し、純度3分の1の小判を造ることとする。金銀比価は国際水準なみになって、ようやく小判の流出もおさまった。

ところが、日本の物価は金貨にもとづいており、その貨幣価値が3分の1に下がったために、物価のほうが3倍に急騰した。……それが外国人の存在と行動のためだとみて、不満をいだいた日本人は、たしかに少なくなかった。

こうした不満は、まもなく大きなうねりとなって、日本の政情をゆるがす。^⑥

問1 下線部①に関連して、この条約について述べた文として適切なものを次からすべて選び、マーク解答用紙にマークしなさい。

- ア. ペリーの圧力に屈してアメリカと相互に最恵国待遇を与えあう内容となった。
- イ. それまで設けられていた外国人居留地を撤廃して外国人の内地雑居を定めた。
- ウ. 箱館・神奈川・長崎・新潟・兵庫を開港することが定められた。
- エ. ほぼ同時期にアメリカ以外にもイギリス・フランス・ロシア・オランダと同様の条約を結んだが、これらをまとめて安政の五カ国条約という。
- オ. 大老井伊直弼は大坂湾に英米の軍艦を入れることで朝廷に圧力をかけ、孝明天皇から条約締結の勅許を得た。

問2 下線部②に関連して、通貨について述べた文として誤っているものを次から1つ選び、マーク解答用紙にマークしなさい。

- ア. 犬養毅内閣の大蔵大臣高橋是清は金本位制から離脱して管理通貨制度への移行を果たした。
- イ. アジア通貨危機が発生し韓国やタイは深刻な打撃を受けた。
- ウ. 大蔵卿松方正義は緊縮財政を進めたため深刻なデフレーションを引き起こした。
- エ. 日本は日露戦争の賠償金の一部を利用して正貨を準備し金本位制に移行した。
- オ. EU（ヨーロッパ連合）はEC（ヨーロッパ共同体）を基礎として成立し、次いで共通通貨ユーロを導入した。

問3 下線部③に関連して、ハリスは初代駐日アメリカ公使であるが、アメリカの歴史について述べた以下の文(a)~(e)を古い順に並べたときの順序として正しいものを次から1つ選び、マーク解答用紙にマークしなさい。

- (a) 同時多発テロ事件が起こった。
- (b) 北ベトナムへの空爆（北爆）を開始した。
- (c) 中距離核戦力（INF）全廃条約が締結された。
- (d) トルーマン・ドクトリンが発表された。
- (e) 北米自由貿易協定（NAFTA）が発効した。

- ア. (b) → (d) → (e) → (c) → (a)
- イ. (b) → (d) → (c) → (a) → (e)
- ウ. (b) → (c) → (d) → (a) → (e)
- エ. (d) → (c) → (b) → (e) → (a)
- オ. (d) → (b) → (c) → (a) → (e)
- カ. (d) → (b) → (c) → (e) → (a)

問4 下線部④に関連して、18世紀に起きたできごとではないものを次から1つ選び、マーク解答用紙にマークしなさい。

- ア. アメリカ合衆国憲法が制定された。
- イ. 琉球王国が薩摩藩に征服された。
- ウ. 清朝が西洋諸国との貿易地を広州に限定した。
- エ. フランスで人権宣言が発せられた。
- オ. 徳川吉宗が享保の改革を行った。

問5 下線部⑤に関連して、経済活動に関する以下の出来事を古い順に並べた時に3番目にくるものを次から1つ選び、マーク解答用紙にマークしなさい。

- ア. 主要国間でプラザ合意が結ばれた。
- イ. ニクソンがドルと金の交換停止を発表した。
- ウ. ブレトン=ウッズ会議が開かれた。
- エ. 世界貿易機関（WTO）が発足した。
- オ. 世界金融危機（リーマン=ショック）が発生した。

問6 下線部⑥に関連して、日本の政治について述べた文として誤っているものを次から1つ選び、マーク解答用紙にマークしなさい。

- ア. 板垣退助らは民撰議院設立の建白書を政府に提出した。
- イ. 政府は関東大震災で発生した震災手形に対して支払い猶予令を出した。
- ウ. 加藤高明内閣の下で満25歳以上の男性に選挙権が与えられた。
- エ. 日本は国際連盟設立当初から常任理事国をつとめた。
- オ. 政府は廃藩置県を実行した後、江戸を東京と改称して首都とした。

問7 本文中の空欄（ A ）～（ D ）に入る語句の組み合わせとして最も正しいものを次から1つ選び、マーク解答用紙にマークしなさい。

- ア. A：銀の価値が高い B：インフレーション
 C：インフレーション D：銀の価値が高く
- イ. A：銀の価値が高い B：インフレーション
 C：デフレーション D：金の価値が高く
- ウ. A：銀の価値が高い B：デフレーション
 C：インフレーション D：銀の価値が高く
- エ. A：金の価値が高い B：インフレーション
 C：デフレーション D：銀の価値が高く
- オ. A：金の価値が高い B：デフレーション
 C：インフレーション D：金の価値が高く
- カ. A：金の価値が高い B：デフレーション
 C：デフレーション D：金の価値が高く

Ⅱ 以下の文章を読み、設問に答えなさい（鍵括弧「 」で示されている世界遺産の名称については一部省略していることもある）。（40点）

世界遺産とは、顕著な普遍的価値を持つ人類共通の遺産であり、現在、1000を超える有形の不動産が国際連合教育科学文化機関（UNESCO）の世界遺産リストに登録されている。中でもイタリアは最も世界遺産が多い国であり、60件もの登録がある（2025年4月現在）。

その代表格が「ローマ歴史地区」である。ローマ歴史地区の中心であるフォロ＝ローマノは、カエサルの構想の下に本格的に改造されたローマ市民の広場であり、その養子である^①オクタウィアヌス（アウグストゥス）によりユリウス神殿などの様々な建築物がこの広場に建設された。アウグストゥス以降の帝政時代には^②帝国の領土とともにローマの市街地も拡大し、神殿や劇場だけでなく、娯楽施設としてコロッセウム（円形闘技場）や大規模な浴場も造営された。この時代に建設された^③コンスタンティヌス帝の凱旋門や再建されたパンテオン（万神殿）は、現在でも往時のままの姿を留めている。また、紀元前312年から建設された「アッピア街道」も、2024年に新たに^④世界遺産として登録された。

イタリアの観光地として有名なヴェネツィアは、「ヴェネツィアとその潟」という名称で世界遺産に登録されている。9世紀前半に聖マルコの遺骸を得て、^⑤ビザンツ帝国の支配から脱したヴェネツィアでは、サン＝マルコ大聖堂のあるサン＝マルコ広場がその中心を成している。この広場にあるドゥカーレ宮殿は、ヴェネツィア共和国の元首であった^⑥ドージェ（総督）の公邸として使用されるとともに、行政府や刑務所などの役割も果たした。「その潟」という言葉に代表されるように、ヴェネツィア共和国は東方貿易（レヴァント貿易）などの海運業を中心に発展した都市国家であり、地中海の制海権を巡ってはジェノヴァ共和国やオスマン帝国などの周辺諸国と幾度となく^⑦海戦を繰り広げた。

世界遺産「フィレンツェ歴史地区」はルネサンスの中心地として有名である。13世紀末からこの地に建設が始められた^⑧サンタ＝マリア＝デル＝フィオーレ大聖堂（またはサンタ＝マリア大聖堂）はルネサンス初期の建築の代表作である。15世紀から16世紀のフィレンツェのルネサンスを支えたのは大富豪のメディチ家であり、特に豪華

王と呼ばれたロレンツォ=デ=メディチは多くの芸術家を庇護した。ウフィツィ美術館やピッティ宮殿にはメディチ家が蒐集^{しゅうしゅう}してきた膨大な美術品が収められている。メディチ家はロレンツォ豪華王の死後、イタリア戦争を契機として一度フィレンツェを追放されるが、サヴォナローラやソデリーニが失脚すると、再び帰還し、後にはトスカナ大公として領主となった。

イタリア南部にある「ナポリ歴史地区」には、この都市を巡る攻防の歴史が刻まれている。12世紀半ばにイタリア半島南部を支配したシチリア王国は、デッローヴォ城をナポリ湾に築いた。城塞の建築はその後も続き、^⑪支配権を継承したドイツのシュタウフェン家は「デル=モンテ城」を、さらにフランスのアンジュー家はヌオーヴォ城を建設した。ナポリ王国が15世紀からスペインのアラゴン王家の支配下に入り、後にスペイン王国の属州となると、要塞ではなく権力を誇示するための王宮が築かれた。^⑫スペイン継承戦争により、ナポリはオーストリアに占領されるものの、スペインのブルボン家がこれを奪還。カルロ7世は王宮をバロック装飾で改装するとともに、ナポリ郊外のカゼルタにも王宮を建設した（「カゼルタの18世紀の王宮と公園」）。

イタリア統一戦争の中心地となったトリノには「サヴォイア王家の王宮群」がある。15世紀初め頃、イタリア北部にサヴォイア公国を建国したサヴォイア家は、16世紀半ばには首都をトリノへと移し、この地にバロック様式の王宮とヴェナリア城を建てた。さらに、サルデーニャ島を領土に加えて国名をサルデーニャ王国に改めると、トリノ郊外にロココ様式のストゥピニージ宮殿を築いた。^⑬19世紀半ば、サルデーニャ王国は国王ヴィットーリオ=エマヌエーレ2世と首相カヴールの下で鉄道整備などの近代化を進め、オーストリアとの戦争に勝利すると、1861年にはイタリア王国を打ち立てた。^⑭

イタリアにはこのほかにも多くの世界遺産があり、特に文化遺産はそれぞれイタリアの歴史と深い繋がりを持つ。世界遺産は世界の歴史が現代にも脈々と受け継がれているということを改めて認識させてくれるものであり、これらを将来の世代へと引き継いでいくことは現代に生きる我々の責務と言えるだろう。

問1 下線部①に関連して、カエサルに関する記述として誤っているものを次から1つ選び、マーク解答用紙にマークしなさい。

- ア. ポンペイウスとクラッススと密約して政権を握った。
- イ. ガリア遠征を成功させ、『ガリア戦記』を執筆した。
- ウ. 終身護民官に就任して様々な改革を進めた。
- エ. 現在の暦の原型となるユリウス暦を採用した。

問2 下線部②に関連して、ローマ帝国の領土が最大になったときの皇帝として正しいものを次から1つ選び、マーク解答用紙にマークしなさい。

- ア. ネルヴァ帝
- イ. トラヤヌス帝
- ウ. ハドリアヌス帝
- エ. アントニヌス=ピウス帝
- オ. マルクス=アウレリウス=アントニヌス帝

問3 下線部③に関連して、コンスタンティヌス帝の時代の出来事として正しいものを次から2つ選び、マーク解答用紙にマークしなさい。

- ア. ミラノ勅令によりキリスト教が公認された。
- イ. ローマ帝国の全自由民に市民権が与えられた。
- ウ. 『ローマ法大全』が編纂された。
- エ. ソリドゥス金貨（ノミスマ）が発行された。
- オ. ローマ帝国が東西に分割された。

問4 下線部④に関連して、ローマ帝国時代のアッピア街道として正しいものを下図
のア～エから1つ選び、マーク解答用紙にマークしなさい。



問5 下線部⑤に関連して、ビザンツ帝国における以下の出来事を古い順から並べたときの順序として正しいものを次から1つ選び、マーク解答用紙にマークしなさい。

- (a) イタリアをランゴバルド人に奪われた。
- (b) 軍管区の司令官に軍事と行政の双方の権限を与えるテーマ制がしかれた。
- (c) スラヴ人への布教のためにキリル文字が考案された。
- (d) ハギア=ソフィア聖堂が建立された。
- (e) 軍事奉仕を条件として貴族に領地を委ねるプロノイア制が導入された。

- ア. (d) → (a) → (b) → (c) → (e)
- イ. (a) → (d) → (e) → (b) → (c)
- ウ. (a) → (d) → (c) → (b) → (e)
- エ. (d) → (a) → (e) → (c) → (b)

問6 下線部⑥に関連して、ヴェネツィア共和国のダンドロ総督の要求に基づき、コンスタンティノープルを占領してラテン帝国を建国したのは何回目の十字軍か。正しいものを次から1つ選び、マーク解答用紙にマークしなさい。

- ア. 第2回目
- イ. 第3回目
- ウ. 第4回目
- エ. 第5回目

問7 下線部⑦に関連して、1571年のレパントの海戦で主に用いられた以下の船の名称として正しいものを次から1つ選び、マーク解答用紙にマークしなさい。




- ア. ジャンク船
- イ. ダウ船
- ウ. ガレオン船
- エ. ガレー船

問8 下線部⑧に関連して、この大聖堂の設計・建築に関与した人物として正しいものを次から1つ選び、マーク解答用紙にマークしなさい。

- ア. ボッカチオ
- イ. ブルネレスキ
- ウ. ミケランジェロ
- エ. ブラマンテ

問9 下線部⑨に関連して、この美術館に所蔵されている以下の絵画の作者として正しいものを次から1つ選び、マーク解答用紙にマークしなさい。



- ア. ボッティチェリ
- イ. レオナルド=ダ=ヴィンチ
- ウ. プリューゲル
- エ. ラファエロ

問10 下線部⑩に関連して、イタリア戦争に関する記述として正しいものを次から2つ選び、マーク解答用紙にマークしなさい。

- ア. 戦争初期にはイタリアの諸都市は神聖ローマ帝国と同盟してフランスと戦った。
- イ. 1519年にスペインのフェリペ2世が神聖ローマ皇帝に選ばれると、イギリス（イングランド）やオスマン帝国もフランス側についた。
- ウ. 1559年にウェストファリア条約が締結されて終結した。
- エ. この戦争において度重なる侵攻を受けたイタリアではルネサンスが衰退した。
- オ. エラスムスは『君主論』をあらわし、現実主義的な統治の必要性を説いた。

問11 下線部⑪に関連して、シチリア島とイタリア半島南部にまたがるシチリア王国（両シチリア王国）に関する記述として誤っているものを次から1つ選び、マーク解答用紙にマークしなさい。

- ア. 北方から来たノルマン人により建国された。
- イ. 13世紀末にシチリア王国とナポリ王国に分裂した。
- ウ. ウィーン会議を経て、ブルボン朝が復活した。
- エ. イタリア統一戦争ではマッツイーニ率いる義勇軍により占領された。

問12 下線部⑫に関連して、スペイン継承戦争の後に結ばれたユトレヒト条約に関する記述として誤っているものを次から2つ選び、マーク解答用紙にマークしなさい。

- ア. ブルボン家によるフランスとスペインの同君連合が成立した。
- イ. スペインは奴隷貿易に関する特権（アシエント）をイギリスに譲った。
- ウ. フランスはハドソン湾などの植民地をイギリスに割譲した。
- エ. スペインはナポリの他にもミラノなどをオーストリアに割譲した。

問13 下線部⑬に関連して、ロココ様式を代表する建築物として最も適切なものを次から1つ選び、マーク解答用紙にマークしなさい。

- ア. シュパイアー大聖堂
- イ. シャルトル大聖堂
- ウ. サンスーシ宮殿
- エ. ヴェルサイユ宮殿

問14 下線部⑭に関連して、イタリア王国が建国された際に領土として含まれていた地域として正しいものを次から1つ選び、マーク解答用紙にマークしなさい。

- ア. サヴォイア
- イ. ヴェネツィア
- ウ. ロンバルディア
- エ. トリエステ
- オ. ローマ教皇領

問15 問題文をよく読み、次の世界遺産（またはその一部である構成資産）の中から現在のイタリア共和国にあるものを2つ選び、マーク解答用紙にマークしなさい。

- ア. ピサ大聖堂
- イ. サン=ピエトロ大聖堂
- ウ. ハギア=ソフィア聖堂
- エ. アルハンブラ宮殿
- オ. デル=モンテ城

Ⅲ 以下の文章を読み、設問に答えなさい（引用文には、省略したり、改めたりしたところがある）。（40点）

鉄は約 4000 年の昔、^① アナトリア半島に住む（ A ）人と呼ばれる人たちが製鉄技術を発展させて以来、人類の文明を支える主要な材料になってきた。

金、銀、銅、アルミニウム、チタンなど金属にはたくさんの種類があるが、それらの中でも最も多く使われてきたのが鉄^②である。橋やビルの鉄骨、レール、自動車^③、鉄道車両、冷蔵庫や電気洗濯機、システムキッチン、フライパン、包丁、釘などいたるところに鉄は使われている。

銅が溶ける温度は約 1084℃なので、この温度は青銅器^④を作る温度に近い。人類は木炭を用いて銅を溶かした。鉄が炭素を吸収すると融点が下がり、木炭で溶かすことができた。このことは青銅器文明から鉄器文明への発展を容易にした。

世界の製鉄の歴史は、一般に時代で区分されている。タイルコートによれば、およそ 6000 年前から始まる青銅器時代に続き、3700 年前より古くに（ A ）人が製鉄法を発見してから^⑤ ローマ帝国が始まった紀元前 27 年までを初期鉄器時代とし、この間に製鉄法が世界に広まった。西ローマ帝国が滅亡する 5 世紀までがローマ鉄器時代で特に^⑥ 西ヨーロッパに製鉄法が広まった。14 世紀の中世に溶鉱炉が出現し、^⑦ 18 世紀初めまでの近世では脱炭炉が発展し錬鉄が作られた。^⑧ 18 世紀に入ってから、木炭に代わり^⑨ コークスを燃料とする溶鉱炉が開発され、^⑩ 工業化が進んだ。

（ A ）王国が滅亡した後、続く 5 世紀の間に、製鉄技術は^⑪ エジプトやギリシア、メソポタミアの周辺地域からヨーロッパやアジア、北アフリカに伝わっていった。地中海沿岸には^⑫ フェニキア人が製鉄技術を広めた。ヨーロッパ北部へは、深い森のあるドナウ川沿いに伝わった。オーストリアのハルシュタットにある紀元前 8 世紀の墓から武器や斧が発掘されており、スイスのラ・テーヌにも鉄の剣などを出土した大きな遺跡がある。グレートブリテン島には紀元前 500 年頃伝わった。そして紀元前 400 年頃には^⑬ インドおよび中国に伝わった。^⑭ 南アフリカには紀元 1000 年頃伝わった。このように、人間の移動により製鉄技術はゆっくりと伝播した。そしてそれぞれの土地で採れる樹木や鉄鉱石、炉を作る粘土、送風条件などにより、各地の条件に合った独自の製鉄技術が発展した。

問1 下線部①に関連して、1923年にトルコ共和国を樹立したトルコ革命についての説明として適切なものを次から2つ選び、マーク解答用紙にマークしなさい。

- ア. 女性参政権を承認した。
- イ. アラビア文字を採用した。
- ウ. 政教分離を実施した。
- エ. イスラーム暦を採用した。
- オ. ミドハト憲法を發布した。

問2 下線部②に関連して、漢の時代に武帝は鉄を国家による専売としたが、このとき、他にも専売になった商品は何か、最も適切なものを次から1つ選び、マーク解答用紙にマークしなさい。

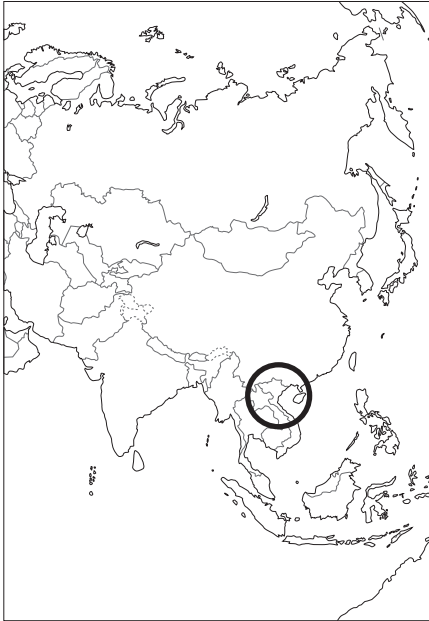
- ア. 砂糖
- イ. 塩
- ウ. 米
- エ. 絹
- オ. 綿

問3 下線部③に関連して、フォード社が大衆車であるT型フォードを発売したが、それ以前の出来事として適切なものを次から2つ選び、マーク解答用紙にマークしなさい。

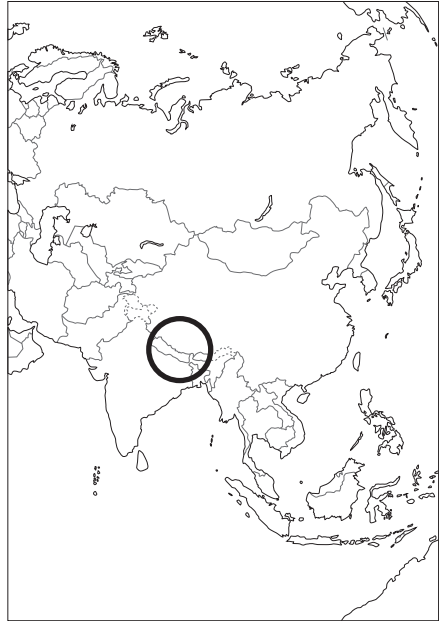
- ア. パナマ運河の完成
- イ. ニューディール政策の実施
- ウ. シヤーマン反トラスト法の制定
- エ. アメリカ合衆国によるハワイ併合
- オ. 大西洋憲章の発表

問4 下線部④に関連して、青銅器や鉄製農具を生み出したドンソン文化が発展した地域はどこか、最も適切なものを次の図から1つ選び、マーク解答用紙にマークしなさい。ただし国境は現在のものとする。

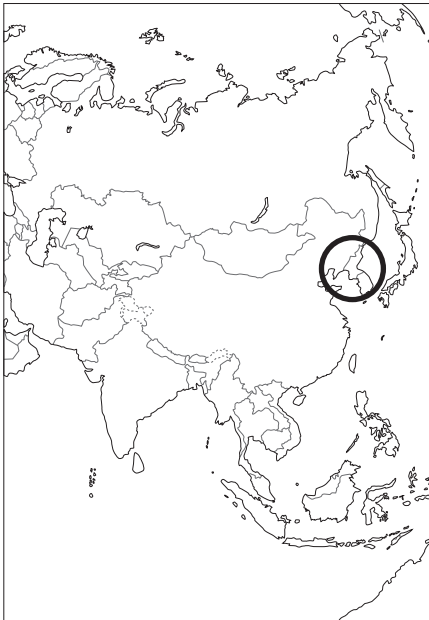
ア.



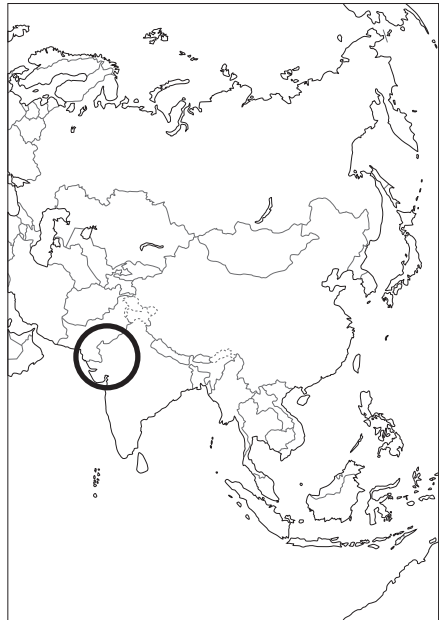
イ.



ウ.



エ.



問5 下線部⑤に関連して、中国の春秋時代の製鉄技術によって可能になったことは何か、最も適切なものを次から1つ選び、マーク解答用紙にマークしなさい。

- ア. 鉄製の犁を牛にひかせる牛耕が可能になり農業の生産性が向上した。
- イ. 当時の鉄は武器として最適であったため、戦術が一気に拡大した。
- ウ. 鉄製貨幣が製造されるようになり商取引が拡大した。
- エ. 活字が作れるようになったことで印刷技術が広まった。

問6 下線部⑥に関連して、2人の正帝と2人の副帝が統治する四帝分治制（テトラキア）をしいたのは誰か、最も適切なものを次から1つ選び、マーク解答用紙にマークしなさい。

- ア. ユスティニアヌス帝
- イ. テオドシウス帝
- ウ. コンスタンティヌス帝
- エ. デイオクレティアヌス帝
- オ. ネロ帝

問7 下線部⑦に関連して、中世の西ヨーロッパにおける荘園にみられた特徴は何か、適切なものを次から3つ選び、マーク解答用紙にマークしなさい。

- ア. 三圃制農法が浸透した。
- イ. 領主は国王に対して不輸不入権を獲得した。
- ウ. 農民保有地がなく領主の直営地で成立した。
- エ. 賦役が課せられた農民は貢納が免除された。
- オ. 重量有輪犁の普及などで農業生産性が向上した。

問8 下線部⑧に関連して、18世紀のイギリスにおける産業構造についての説明として、最も適切なものを次から1つ選び、マーク解答用紙にマークしなさい。

- ア. 「囲い込み」によって効率の良い集約的農業が可能になった。また、蒸気機関の活用で毛織物生産に代わって綿織物生産が盛んになった。
- イ. 「囲い込み」によって農地が分割されて農業の効率が悪化した。また、蒸気機関の活用で毛織物生産に代わって綿織物生産が盛んになった。
- ウ. 「囲い込み」によって効率の良い集約的農業が可能になった。また、蒸気機関の活用で綿織物生産に代わって毛織物生産が盛んになった。
- エ. 「囲い込み」によって農地が分割されて農業の効率が悪化した。また、蒸気機関の活用で綿織物生産に代わって毛織物生産が盛んになった。

問9 下線部⑨に関連して、コークスを利用した製鉄法を開発した人物は誰か、最も適切なものを次から1つ選び、マーク解答用紙にマークしなさい。

- ア. フルトン
- イ. クロンプトン
- ウ. ワット
- エ. スティーヴンソン
- オ. ダービー

問10 下線部⑩に関連して、次の文は19世紀の経済がどのように変化したかを示したものである。空欄（ x ）および（ y ）に入る語句の組み合わせとして最も適切なものを次から1つ選び、マーク解答用紙にマークしなさい。

第2次産業革命で重化学工業が発達したが、これらの分野では一部の大企業が市場を席卷し（ x ）と結びついて市場を支配するようになった。また、原材料確保や販売市場の確保などの動機によって（ y ）の動きが広がった。

- ア. x - 金融資本, y - 帝国主義
- イ. x - 金融資本, y - 重商主義
- ウ. x - 産業資本, y - 帝国主義
- エ. x - 産業資本, y - 重商主義

問11 下線部⑪に関連して、ナセルが主導したエジプト革命の後、1953年にエジプト共和国が樹立したが、それ以前の出来事はどれか、最も適切なものを次から1つ選び、マーク解答用紙にマークしなさい。

- ア. 日ソ共同宣言
- イ. ガーナ独立
- ウ. キューバ危機
- エ. 国際通貨基金（IMF）発足
- オ. ワルシャワ条約機構成立

問12 下線部⑫に関連して、フェニキア人が作ったフェニキア文字の説明として最も適切なものを次から1つ選び、マーク解答用紙にマークしなさい。

- ア. 楔形文字の起源となった。
- イ. 神聖文字（ヒエログリフ）の起源となった。
- ウ. 甲骨文字の起源となった。
- エ. アルファベットの起源となった。

問13 下線部⑬に関連して、インドの出来事についての次の記述(a)～(c)を古い順に並べたときの順序として最も適切なものを次から1つ選び、マーク解答用紙にマークしなさい。

- (a) イギリスによる塩の専売制に対してガンディーが不服従運動「塩の行進」を起こした。
- (b) ローラット法が施行されて弾圧が強まった。
- (c) 新インド統治法が施行されインド人による各州の統治が認められるようになった。

- ア. (a) → (b) → (c)
- イ. (a) → (c) → (b)
- ウ. (b) → (a) → (c)
- エ. (b) → (c) → (a)
- オ. (c) → (a) → (b)
- カ. (c) → (b) → (a)

問14 下線部⑭に関連して、20世紀初頭に成立した南アフリカ連邦は、どこの国の自治領か、最も適切なものを次から1つ選び、マーク解答用紙にマークしなさい。

- ア. ポルトガル
- イ. イギリス
- ウ. フランス
- エ. ドイツ
- オ. スペイン

問15 空欄（ A ）に入る語句として最も適切なものを次から1つ選び、マーク解
答用紙にマークしなさい。

ア. アッシリア

イ. シュメール

ウ. ペルシア

エ. ミタンニ

オ. ヒッタイト

