


2026年度入学試験問題

政治・経済

(試験時間 13:15～14:15 60分)

1. この問題冊子が、出願時に選択した科目のものであることを確認のうえ、解答してください。
2. 解答用紙は、マーク解答用紙のみです。
3. 解答は、必ず解答欄にマークしてください。解答欄以外にマークすると無効となります。
4. 解答は、HBの鉛筆またはシャープペンシルを使用し、訂正する場合は、プラスチック製の消しゴムを使用してください。特に、一度マークした箇所を修正する場合、しっかりと消してください。消し残りがあると、解答が無効となることがあります。また、消しくずを残さないでください。
5. 解答用紙を折り曲げたり、汚したりしないでください。
6. 解答用紙には、必ず受験番号と氏名を記入・マークしてください。未記入や記入・マークミスなどがあった場合は、当該科目の解答は無効になります。



I 次の文章を読んで、下記の設問に答えなさい。(35点)

日本国憲法第11条には、「国民は、すべての基本的人権の享有を妨げられない。この憲法が国民に保障する基本的人権は、侵すことのできない永久の権利として、現在及び将来の国民に与へられる」と規定されている。また、第12条には「この憲法が国民に保障する自由及び権利は、国民の不断の努力によつて、これを保持しなければならない。又、国民は、これを してはならないのであつて、常に公共の福祉のためにこれを利用する責任を負ふ」と規定され、基本的人権は国民自らが努力して保持する必要があるが、^(a) 公共の福祉による制限を受けることがあるとされている。一方、^(b) 国際社会ではグローバル化やボーダレス化が急激に進んでおり、近年の日本社会でも、^(c) 外国人の人権保障について早急に対応しなければならない状況となっている。

自由権は、^(d) 精神の自由、人身の自由、経済の自由に分けることができる。精神の自由については^(e) 政教分離に関する裁判において憲法判断が行われたこともあった。人身の自由については、^(f) 刑事裁判における^(g) 冤罪事件が、深刻な人権侵害の一つとなっている。経済の自由については、公共の福祉と規制緩和とのバランスが問題となっている。

^(h) 社会権は、「」ともいわれるように、国家に対して積極的な施策を要求する権利である。近年の日本では、社会保障制度の持続可能性が課題となっている。また、人口減少に対処する少子化対策に関連して、国民の⁽ⁱ⁾ 教育を受ける権利の保障も注目されるようになってきている。

日本国憲法には規定されていない新しい人権についても、その保障が課題となっている。^(j) プライバシーの権利は、国民の間に定着してきている。^(k) 環境権については、高度経済成長期の公害問題においても議論されてきたが、近年では、2015年に国連持続可能な開発サミットで採択された「持続可能な開発目標」である を達成する取り組みにおいて重要なものとなっている。国民の知る権利については、高度情報化社会における情報公開や個人情報の保護などさまざまな問題が生じている。

以上のような国民の基本的人権を保障するためには、^(l) 裁判所の働きが重要である。裁判所は、公正な裁判を行い、また、^(m) 違憲審査権の行使などを通して、国民の基本的人権を守っている。私たちも自分たちの人権を保持するために不断の努力を続けていかなければならない。

問1 文章中の空欄 ～ にあてはまる最も適切な語句を，下記のア～ケの中からそれぞれ1つ選び，その記号をマーク解答用紙の解答欄にマークしなさい。

- ア. 国家による自由
- イ. 多用
- ウ. MDGs
- エ. 国家からの自由
- オ. ESG
- カ. 濫用
- キ. 国家への自由
- ク. SDGs
- ケ. 準用

問2 文章中の下線部(a)について，日本国憲法において，明文で公共の福祉による制限が規定されていない人権として最も適切なものを，下記のア～エの中から1つ選び，その記号をマーク解答用紙の解答欄にマークしなさい。

- ア. 居住・移転の自由
- イ. 職業選択の自由
- ウ. 財産権の保障
- エ. 住居の不可侵

問3 文章中の下線部(b)に関連して，国際的な人権保障についての記述として最も適切なものを，下記のア～エの中から1つ選び，その記号をマーク解答用紙の解答欄にマークしなさい。

- ア. 国連総会で1948年に採択された世界人権宣言には，法的拘束力はなく，後に国際人権規約として条約化された。
- イ. 国際人権規約は，自由権規約であるA規約と社会権規約であるB規約から構成されている。
- ウ. 自由権規約の第一選択議定書は死刑廃止条約であり，第二選択議定書は個人通報制度を規定している。
- エ. 日本は，国際人権規約のすべての規約と三つの選択議定書を，留保することなく批准している。

問4 文章中の下線部(c)に関連して、外国人の人権の現状についての記述として最も適切なものを、下記のア～エの中から1つ選び、その記号をマーク解答用紙の解答欄にマークしなさい。

- ア. 社会保障について、外国人は日本に居住していても日本の社会保険に加入することはできない。
- イ. 公務員について、国家公務員・地方公務員ともに外国籍の人を採用することは禁止されている。
- ウ. 地方参政権について、最高裁判所は、永住外国人に対し地方参政権を付与することは憲法上禁止されていないと判示したことがある。
- エ. 日本国内の土地などの不動産購入について、安全保障上の観点から外国人には認められていない。

問5 文章中の下線部(d)について、精神の自由に関する日本国憲法の規定として適切なでないものを、下記のア～エの中から1つ選び、その記号をマーク解答用紙の解答欄にマークしなさい。

- ア. 検閲は、これをしてはならない。
- イ. 信教の自由は、何人に対してもこれを保障する。
- ウ. 通信の秘密は、これを侵してはならない。
- エ. 何人も、裁判所において裁判を受ける権利を奪はれない。

問6 文章中の下線部(e)について、政教分離に関する訴訟において、最高裁判所が、一般的慣習に従った世俗的儀式であり宗教的活動にはあたらないとして原告の請求を退けた訴訟として最も適切なものを、下記のア～エの中から1つ選び、その記号をマーク解答用紙の解答欄にマークしなさい。

- ア. 津地鎮祭訴訟
- イ. 愛媛玉ぐし料訴訟
- ウ. 孔子廟訴訟
- エ. 空知太神社訴訟

問7 文章中の下線部(f)に関連して、刑事事件や刑事裁判に関する記述として**適切でないもの**を、下記のア～エの中から1つ選び、その記号をマーク解答用紙の解答欄にマークしなさい。

- ア. 自己に不利益な唯一の証拠が本人の自白である場合には、有罪とされることも、刑罰を科せられることもない。
- イ. 刑事裁判の有罪判決の確定後に、無罪となるような新たな証拠が見つかった場合には、検察審査会に審査の請求をすることができる。
- ウ. 刑事被告人には、裁判において、自己に不利益な証言をした証人に対し、質問をする機会が与えられている。
- エ. 刑事被告人には、公費で自分のために強制的手続きにより証人を求める権利が与えられている。

問8 文章中の下線部(g)について、再審公判において無罪が確定した冤罪事件として**適切でないもの**を、下記のア～エの中から1つ選び、その記号をマーク解答用紙の解答欄にマークしなさい。

- ア. 財田川事件
- イ. 島田事件
- ウ. 白鳥事件
- エ. 袴田事件

問9 文章中の下線部(h)についての記述として最も適切なものを、下記のア～エの中から1つ選び、その記号をマーク解答用紙の解答欄にマークしなさい。

- ア. 日本国憲法第25条には、「すべて国民は、人たるに値する生活を営む権利を有する」と規定されている。
- イ. 生存権の保障について、朝日訴訟の最高裁判所判決ではプログラム規定説が採用されたが、日本国憲法第25条を直接の根拠として国の不作為を裁判で争えるとも示された。
- ウ. 日本国憲法は、勤労権と労働三権を規定しており、これらを具体化するために労働三法などが制定されている。
- エ. 公務員は、職務の公共性などのため労働三権が制限され、争議権の禁止が日本国憲法に規定されている。

問10 文章中の下線部(i)についての記述として最も適切なものを、下記のア～エの中から1つ選び、その記号をマーク解答用紙の解答欄にマークしなさい。

- ア. 教育を受ける権利の基礎には、人が人間らしく成長、発達していくための学習権という考え方があるとされる。
- イ. 教育を受ける権利を保障するため、義務教育で使用する教科書は、教育基本法に基づき無償で配布される。
- ウ. 2025年度から、公立、私立とも高校の授業料無償化が所得制限を定めたうえで開始された。
- エ. 家永教科書訴訟で最高裁判所は、教科書検定制度自体は違憲であるが、一部の不合格処分については合法と判断した。

問11 文章中の下線部(j)に関連して、プライバシーの権利やそれをめぐる裁判に関する記述として適切でないものを、下記のア～エの中から1つ選び、その記号をマーク解答用紙の解答欄にマークしなさい。

- ア. 三島由紀夫の小説である『宴のあと』事件では、モデルとされた男性のプライバシーの権利が認められた。
- イ. 三島由紀夫の小説である『宴のあと』事件では、小説の出版差し止めが認められた。
- ウ. 柳美里が発表した小説『石に泳ぐ魚』事件では、モデルとされた女性のプライバシーの侵害にあたるとして損害賠償が認められた。
- エ. 柳美里が発表した小説『石に泳ぐ魚』事件では、小説の出版差し止めが認められた。

問12 文章中の下線部(k)について、次の文章は環境権をめぐるある裁判に関する説明である。文章中の空欄 と にあてはまる語句と記述の組合せとして最も適切なものを、下記のア～クの中から1つ選び、その記号をマーク解答用紙の解答欄にマークしなさい。

航空機の騒音などの被害を受けた周辺住民が、夜9時以降の夜間飛行の差し止めと損害賠償を求めて訴訟を起こした。これを 空港公害訴訟という。1981年に最高裁判所は、環境権には触れることなく、 判決を下した。結果的には住民側の敗訴となったが、その後、住民側と国側との間で和解が成立することになった。

- ア. X—羽田 Y—差し止め請求を認め、過去の損害賠償も認める
- イ. X—羽田 Y—差し止め請求は認めるが、損害賠償は認めない
- ウ. X—羽田 Y—差し止め請求は却下するが、過去の損害賠償を認める
- エ. X—羽田 Y—差し止め請求を却下し、過去の損害賠償も認めない
- オ. X—大阪 Y—差し止め請求を認め、過去の損害賠償も認める
- カ. X—大阪 Y—差し止め請求は認めるが、損害賠償は認めない
- キ. X—大阪 Y—差し止め請求は却下するが、過去の損害賠償を認める
- ク. X—大阪 Y—差し止め請求を却下し、過去の損害賠償も認めない

問13 文章中の下線部(l)に関連して、知的財産高等裁判所が設置されている裁判所として最も適切なものを、下記のア～エの中から1つ選び、その記号をマーク解答用紙の解答欄にマークしなさい。

- ア. 東京高等裁判所
- イ. 大阪高等裁判所
- ウ. 東京高等裁判所と大阪高等裁判所
- エ. すべての高等裁判所

問14 文章中の下線部(m)について、日本の裁判所がもつ違憲審査権に関する記述として適切でないものを、下記のア～エの中から1つ選び、その記号をマーク解答用紙の解答欄にマークしなさい。

- ア. 法律に対する最高裁判所の最初の違憲判決は、刑法の尊属殺人重罰規定に対するものである。
- イ. 日本では、具体的な事件の裁判において違憲審査をする付随的審査制を採用している。
- ウ. 違憲審査権は、法律だけではなく命令・規則・処分などの行為に対しても行使される。
- エ. 最高裁判所は、違憲審査の終審裁判所として、必ず憲法判断を下さなければならない。

II 次の文章を読んで、下記の設問に答えなさい。(35点)

近年の日本の国民生活においては、過去30年以上にわたってほとんど経験することがなかったインフレーション（インフレ）^(a)が大きな問題となっている。世界的な物資不足や円安によって輸入品の価格が上昇するなど、さまざまな商品の価格が上昇している。

日本経済はバブル経済の崩壊以降低迷を続けている。2000年代には戦後最長の「いざなぎ景気」^(b)とよばれる好景気もあったが、消費は増えず「実感なき景気回復」といわれた。バブル経済崩壊後、約30年にわたって経済成長が停滞している状況は「失われた30年」^(c)といわれることもある。

日本の国内総生産（GDP）は、2023年にドイツに抜かれて世界第4位となったが、2024年には、初めて名目GDPが 兆円をこえた。このような経済状況を正確に把握するには、さまざまな経済指標^(d)の数値が必要となる。インフレについては、物価の変動^(e)を長期的に見ることによってその動向を知ることができる。経済規模については現在ではGDPが基本となっているが、かつては国民総生産（GNP）が使われていた。このGNPから を引くと国民純生産（NNP）が算出される。さらにNNPから間接税を差し引いて補助金を加えると国民所得（NI）^(f)が算出される。また、GDPの対前年増加率を経済成長率^(g)といい、名目経済成長率と実質経済成長率とがある。

私たちの経済活動に大きな影響を与えるものとして金融^(h)がある。金融とは限られた資金を融通することであるが、私たちの家計は、経済主体としては資金を企業に供給する側にある。すなわち、銀行を介した間接金融と企業が発行した株式や を購入する直接金融によって資金を供給している。一方、銀行は、預金の受け入れと貸し出しを繰り返すことによって、新たな預金通貨をつくり出すことができる。これを信用創造⁽ⁱ⁾という。

日本の家計の金融資産は、欧米諸国に比べて現金・預金に偏在している。これは、家計から企業への資金の供給が限定的であり、企業の成長に向けた投資^(j)が十分に行われていないことを示している。また、極めて低い金利環境^(k)が続いてきたため、金融資産などによって得られる財産所得も低迷している。近年「貯蓄から投資へ」の流れが推奨され、家計の安定的な資産形成の支援と成長資金の供給を目的とするNISA（少額投資非課税制度）が2014年に導入され、その後、より多くの資金を運用できるよう整備されてきている。

問1 文章中の空欄 ～ にあてはまる最も適切な語句を，下記のア～ケの中からそれぞれ1つ選び，その記号をマーク解答用紙の解答欄にマークしなさい。

- ア. 固定資本減耗
- イ. 500
- ウ. ストック・オプション
- エ. 中間生産物
- オ. 600
- カ. 公債
- キ. 海外からの純所得
- ク. 700
- ケ. 社債

問2 文章中の下線部(a)に関連して，インフレーションの種類についての記述として最も適切なものを，下記のア～エの中から1つ選び，その記号をマーク解答用紙の解答欄にマークしなさい。

- ア. デMAND・プル・インフレーションは，供給の増加に対して需要が追いつかないために物価が上昇する現象である。
- イ. コスト・プッシュ・インフレーションは，原材料費や人件費などの費用が増加することによって物価が上昇する現象である。
- ウ. ハイパー・インフレーションは，長期間にわたって物価が緩やかに上昇する現象である。
- エ. クリーピング・インフレーションは，短期間に物価が急激に上昇する現象である。

問3 文章中の下線部(b)に関連して，以下の設問に解答しなさい。

- (1) 「いざなぎ景気」の期間における平均の実質経済成長率として最も適切なものを，下記のア～エの中から1つ選び，その記号をマーク解答用紙の解答欄にマークしなさい。
- ア. 1%未満
 - イ. 2%程度
 - ウ. 5%程度
 - エ. 10%程度

(2) 景気循環の4つの波についての記述として最も適切なものを、下記のア～エの中から1つ選び、その記号をマーク解答用紙の解答欄にマークしなさい。

- ア. コンドラチェフの波は、周期は約50年で、建設投資の動向が要因となっている。
- イ. クズネッツの波は、周期は約20年で、設備投資の増減が要因となっている。
- ウ. ジュグラーの波は、周期は約10年で、技術革新が要因となっている。
- エ. キチンの波は、周期は約40か月で、在庫投資の変動が要因となっている。

問4 文章中の下線部(c)に関連して、この30年間に日本経済に大きな打撃を与えた出来事として適切でないものを、下記のア～エの中から1つ選び、その記号をマーク解答用紙の解答欄にマークしなさい。

- ア. アジア通貨危機
- イ. 東日本大震災
- ウ. 第二次石油危機
- エ. 世界金融危機

問5 文章中の下線部(d)について、一国の経済規模を示す指標には、ある特定の時点における蓄積量であるストックと、ある一定期間（一般的には1年間）に生み出された量であるフローがある。それぞれに該当する経済指標の組合せとして最も適切なものを、下記のア～カの中から1つ選び、その記号をマーク解答用紙の解答欄にマークしなさい。

- | | |
|----------------------|------------------|
| ア. ストック：国際収支 国債発行残高 | フロー：国富 国民総所得 |
| イ. ストック：国際収支 国民総所得 | フロー：国富 国債発行残高 |
| ウ. ストック：国債発行残高 国民総所得 | フロー：国際収支 国富 |
| エ. ストック：国債発行残高 国富 | フロー：国際収支 国民総所得 |
| オ. ストック：国富 国際収支 | フロー：国債発行残高 国民総所得 |
| カ. ストック：国富 国民総所得 | フロー：国債発行残高 国際収支 |

問6 文章中の下線部(e)に関連して、次の図1・2は消費者物価指数の動きと消費者物価指数の前年度比を示している。これらの図から読み取れることの説明として適切なものを、下記のア～エの中から1つ選び、その記号をマーク解答用紙の解答欄にマークしなさい。

図1 消費者物価指数の動き

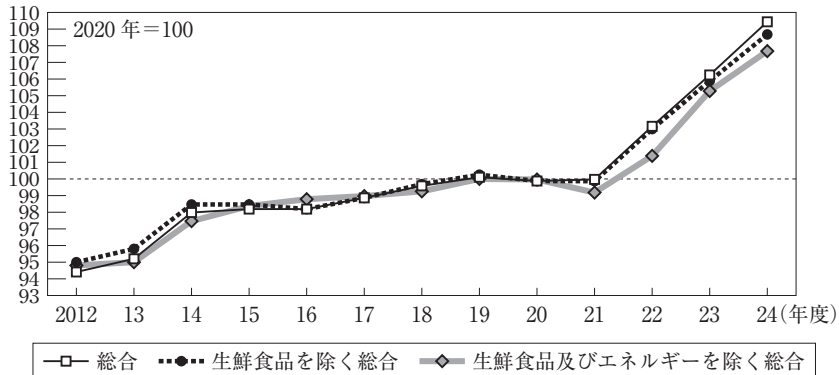
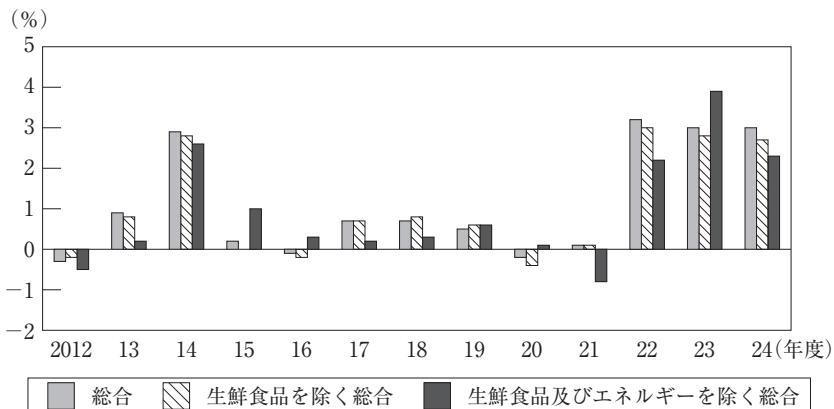


図2 消費者物価指数の前年度比



(総務省資料により作成)

- ア. 消費者物価指数の動きからは、2012年度から2020年度の間よりも、2020年度から2024年度の間の方が、物価上昇の幅が大きいことがわかる。
- イ. 消費者物価指数の動きを見ると、2021年度以降、生鮮食品価格やエネルギー価格の上昇により、「総合」の指数が最も大きくなっている。
- ウ. 消費者物価指数の前年度比マイナスは物価が下がったことを、前年度比プラスは物価が上がったことを示している。
- エ. 2022年度から2024年度までの消費者物価指数の前年度比から、この間はエネルギー価格よりも生鮮食品価格の変化の幅のほうが大きかったといえる。

問7 文章中の下線部(f)に関連して、近年の日本の国民所得（NI）の傾向や国民所得の原則についての記述として適切でないものを、下記のア～エの中から1つ選び、その記号をマーク解答用紙の解答欄にマークしなさい。

- ア. 生産国民所得に占める第一次産業の割合は、第二次産業や第三次産業よりも小さく全体の1割程度となっている。
- イ. 分配国民所得の雇用者報酬・財産所得・企業所得の中では、雇用者報酬が最も多くなっている。
- ウ. 支出国民所得の中では、政府消費や民間・政府投資よりも、民間消費のほうが多くなっている。
- エ. 生産・分配・支出の各国民所得の額は等しくなり、これを三面等価の原則という。

問8 文章中の下線部(g)に関連して、ある国の2023年と2024年の名目GDPとGDPデフレーターが次の表のような数値であったとき、この国の2024年の実質経済成長率として最も適切なものを、下記のア～エの中から1つ選び、その記号をマーク解答用紙の解答欄にマークしなさい。

年	名目 GDP（兆円）	GDP デフレーター
2023	500	100
2024	494	95

- ア. -6.1%
- イ. 1.3%
- ウ. 3.8%
- エ. 4.0%

問9 文章中の下線部(h)について、以下の設問に解答しなさい。

(1) 日本の金融の中核である日本銀行の役割として**適切でないもの**を、下記のア～エの中から1つ選び、その記号をマーク解答用紙の解答欄にマークしなさい。

- ア. 独占的に日本銀行券を発行する。
- イ. 国庫金の出納を行う。
- ウ. 新たに発行された国債を直接引き受ける。
- エ. 市中の金融機関と資金をやりとりする。

(2) 日本銀行が行っている金融政策のうち、「非伝統的金融政策」といわれる政策についての記述として最も適切なものを、下記のア～エの中から1つ選び、その記号をマーク解答用紙の解答欄にマークしなさい。

- ア. ゼロ金利政策とは、国が新たに発行する国債の金利を実質0%に近づける政策である。
- イ. 量的緩和政策は、日銀の当座預金残高目標を設定し市場への資金供給を増加させる政策である。
- ウ. 量的・質的緩和政策は、日銀が所有していた巨額の国債を市場で売却する政策である。
- エ. マイナス金利政策は、日本銀行の当座預金の金利をすべてマイナスにする政策である。

問10 文章中の下線部(i)に関して、信用創造のしくみについての記述として最も適切なものを、下記のア～エの中から1つ選び、その記号をマーク解答用紙の解答欄にマークしなさい。

ア. 本源的預金が5億円、預金準備率が10%で、銀行からの貸し出しがすべて再預金されることが繰り返された場合、預金準備率に従って預け入れられた日銀の当座預金総額は50億円である。

イ. 本源的預金が5億円、預金準備率が10%で、銀行からの貸し出しがすべて再預金されることが繰り返された場合、貸付総額は50億円である。

ウ. 本源的預金が5億円、預金準備率が10%で、銀行からの貸し出しがすべて再預金されることが繰り返された場合、預金総額は50億円である。

エ. 本源的預金が5億円、預金準備率が10%で、銀行からの貸し出しがすべて再預金されることが繰り返された場合、信用創造額は50億円である。

問11 文章中の下線部(j)に関連して、株式の購入時よりも売却時に株価が上昇して得られる値上がり益の名称として最も適切なものを、下記のア～エの中から1つ選び、その記号をマーク解答用紙の解答欄にマークしなさい。

ア. デリバティブ

イ. キャピタルゲイン

ウ. レバレッジ

エ. インカムゲイン

問12 文章中の下線部(k)に関連して、金利の上昇が私たちの生活に与える影響についての記述として適切なでないものを、下記のア～エの中から1つ選び、その記号をマーク解答用紙の解答欄にマークしなさい。

ア. 金利変動型の住宅ローンを利用している場合は、ローンの返済額が増加する。

イ. 不動産に対する需要が高まるので、不動産価格が上昇する要因となる。

ウ. 日本の金利が上昇すると、外国為替相場においては円高の要因となる。

エ. 経済活動が抑制されるため、物価に押し下げ圧力が働く。

Ⅲ 次の文章を読んで、下記の設問に答えなさい。(30点)

「戦争の世紀」といわれた20世紀の前半50年間には、二度にわたる世界大戦があった。第三次世界大戦が勃発することはなかったが、第二次世界大戦後にはアメリカを中心とする西側陣営とソ連を中心とする東側陣営による冷戦^(a)が始まった。1950年にはアメリカとソ連の代理戦争として 戦争が勃発したが、やがて休戦となり、その後、米ソは「雪どけ」へと向かうことになった。1962年には、突発的にキューバ危機^(b)が発生して核戦争が懸念されたが、その一歩手前で回避することができた。これをきっかけに「デタント」といわれる緊張緩和が進んだ。また、しだいにアメリカとソ連の二極から離反する国が現れて多極化^(c)が進むことになった。1979年にソ連が に侵攻すると、再び緊張が高まり「新冷戦」といわれる事態となった。しかし、1980年代半ばにソ連にゴルバチョフ政権^(d)が誕生すると、1989年にはゴルバチョフとブッシュ（父）アメリカ大統領とによる 会談において冷戦の終結が宣言されることになった。1990年には東西ドイツが統一され、1991年にはソ連が解体されて、ロシアなどによって が結成された。冷戦の終結によって、世界は国際社会の平和の実現を期待した。しかし冷戦終結後まもなく、湾岸戦争^(e)が勃発する事態となった。

21世紀は、2001年9月にアメリカで同時多発テロが起こり、2003年にはイラク戦争^(f)が勃発するなど波乱の幕開けとなった。2009年に就任したアメリカのオバマ大統領が、ブラハ^(g)で有名な演説を行ってノーベル平和賞を受賞し、平和な世界の到来が期待されたが、2014年にロシアによるウクライナの 併合が強行され、国際社会の期待は失望に変わった。その後、2017年にはアメリカで「アメリカ第一主義」を唱える共和党のトランプ政権が誕生したが、一期4年で政権交代となり、2021年には民主党のバイデンが大統領に就任した。トランプ政権下の2020年代初めには、新型コロナウイルス感染症^(h)のパンデミックが発生し国際社会が大混乱に陥った。2022年には、ロシアによるウクライナ侵攻が開始され、2023年にはガザにおけるイスラエルとハマスとの大規模な衝突が発生した。このような状況の中で、2025年にアメリカで再びトランプ政権が誕生した。トランプ大統領は、地域安全保障への軍事的関与⁽ⁱ⁾を後退させる姿勢を示す一方、高関税政策によって自国の利益を優先する姿勢を強め、「貿易戦争」ともいわれる事態に世界中を巻き込み、経済的混乱を引き起こした。

問1 文章中の空欄 ～ にあてはまる最も適切な語句を、下記のア～コの中からそれぞれ1つ選び、その記号をマーク解答用紙の解答欄にマークしなさい。

- ア. コミンフォルム
- イ. マルタ
- ウ. クリミア
- エ. 朝鮮
- オ. グルジア
- カ. チェチェン
- キ. 独立国家共同体 (CIS)
- ク. ベトナム
- ケ. ヤルタ
- コ. アフガニスタン

問2 文章中の下線部(a)について、以下の設問に解答しなさい。

(1) ヨーロッパ大陸は「鉄のカーテン」によって分断されていると表現した政治家として最も適切なものを、下記のア～エの中から1つ選び、その記号をマーク解答用紙の解答欄にマークしなさい。

- ア. フーヴァー
- イ. ローズベルト
- ウ. チェンバレン
- エ. チャーチル

(2) 冷戦時代におけるアメリカの外交についての説明として最も適切なものを、下記の
ア～エの中から1つ選び、その記号をマーク解答用紙の解答欄にマークしなさい。

- ア. ギリシャ・トルコを支援して共産主義を封じ込めるために、マーシャル・プランを
発表した。
- イ. 全ヨーロッパを対象として戦後復興を支援するために、トルーマン・ドクトリン
を発表した。
- ウ. デタント（緊張緩和）政策が進められた時期には、米ソの間で第1次戦略兵器制
限交渉（SALT I）が行われた。
- エ. 東西ヨーロッパ諸国やカナダとともに、欧州安全保障協力機構（OSCE）をス
タートさせた。

問3 文章中の下線部(b)についての記述として**適切でないもの**を、下記のア～エの中から
1つ選び、その記号をマーク解答用紙の解答欄にマークしなさい。

- ア. カストロが指導する革命によって社会主義国となったキューバに、ソ連がミサイ
ル基地を建設しようとした。
- イ. アメリカは、ミサイルなどの兵器や資材の搬入を防ぐためキューバの周辺で海上
封鎖を行った。
- ウ. このときのアメリカの大統領はケネディ、ソ連の指導者はフルシチョフであった。
- エ. アメリカとソ連の首脳間のホットラインが活用された結果、核戦争の危機が回避
された。

問4 文章中の下線部(c)について、次の文章は多極化に関して説明したものである。文章中の空欄 ～ にあてはまる語句の組合せとして最も適切なものを、下記のア～クの中から1つ選び、その記号をマーク解答用紙の解答欄にマークしなさい。

西側陣営においては、 が西側の軍事機構から脱退して独自に核兵器の開発を進めるようになった。東側陣営においては、スターリン批判をきっかけとして民主化・自由化運動が起こった。1968年には で「プラハの春」といわれた民主化運動もあったがワルシャワ条約機構軍によって鎮圧された。スターリン批判以降に表面化していたソ連と との対立は、1969年には両国の国境で武力衝突が発生する事態となった。

- | | | |
|-----------|------------|-------|
| ア. X—イギリス | Y—ポーランド | Z—中国 |
| イ. X—イギリス | Y—ポーランド | Z—北朝鮮 |
| ウ. X—イギリス | Y—チェコスロバキア | Z—中国 |
| エ. X—イギリス | Y—チェコスロバキア | Z—北朝鮮 |
| オ. X—フランス | Y—ポーランド | Z—中国 |
| カ. X—フランス | Y—ポーランド | Z—北朝鮮 |
| キ. X—フランス | Y—チェコスロバキア | Z—中国 |
| ク. X—フランス | Y—チェコスロバキア | Z—北朝鮮 |

問5 文章中の下線部(d)に関連して、ゴルバチョフ政権が行った改革として適切でないものを、下記のア～エの中から1つ選び、その記号をマーク解答用紙の解答欄にマークしなさい。

- ア. ペレストロイカ
- イ. グラスノスチ
- ウ. 新思考外交
- エ. 新自由主義経済政策

問6 文章中の下線部(e)についての記述として**適切でないもの**を、下記のア～エの中から1つ選び、その記号をマーク解答用紙の解答欄にマークしなさい。

- ア. イラクによる隣国クウェートへの侵攻から始まった。
- イ. 国連の安全保障理事会は多国籍軍に対して武力行使容認決議を行った。
- ウ. 日本は、多国籍軍に対して資金提供と人的貢献を行った。
- エ. 戦争終結後、日本は自衛隊の掃海艇をペルシャ湾に派遣し、機雷除去活動を行った。

問7 文章中の下線部(f)についての記述として**適切でないもの**を、下記のア～エの中から1つ選び、その記号をマーク解答用紙の解答欄にマークしなさい。

- ア. 大量破壊兵器の保有を主な理由として、アメリカを中心とする有志連合がイラクに対し武力攻撃を行った。
- イ. 日本ではテロ対策特別措置法が制定され、それに基づいて後方支援のために自衛隊の部隊がイラクに派遣された。
- ウ. イラン・イラク戦争や湾岸戦争を指導してきたイラクのフセイン政権は、イラク戦争において倒された。
- エ. アメリカ軍がイラクから撤退した後、イラク北部でイスラーム国（IS）が勢力を拡大した。

問8 文章中の下線部(g)に関連して、このプラハで行った演説でオバマ大統領が目指そうとした構想として最も適切なものを、下記のア～エの中から1つ選び、その記号をマーク解答用紙の解答欄にマークしなさい。

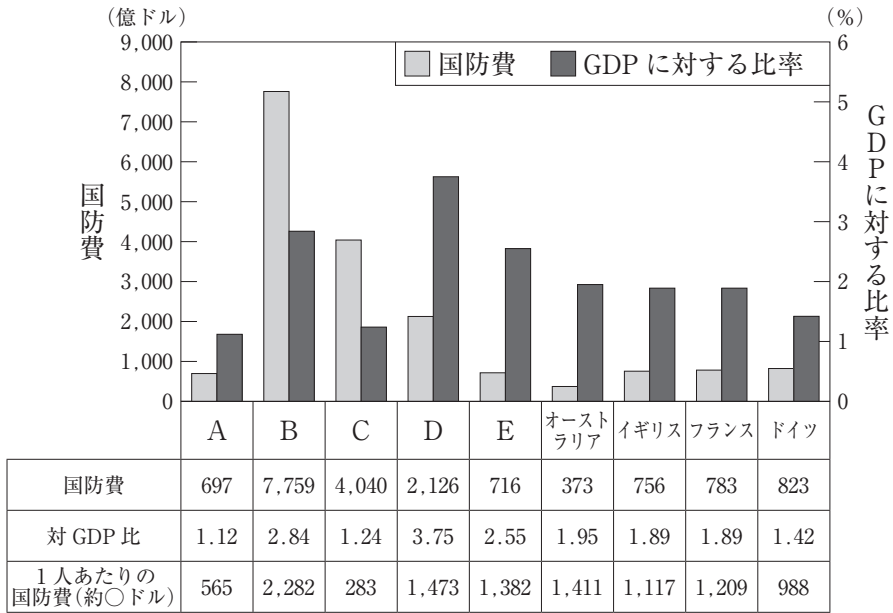
- ア. 持続可能な開発
- イ. 地球市民
- ウ. 平和的生存権
- エ. 核なき世界

問9 文章中の下線部(h)に関連して、パンデミックの際の世界や日本の出来事についての記述として適切でないものを、下記のア～エの中から1つ選び、その記号をマーク解答用紙の解答欄にマークしなさい。

- ア. 感染症拡大防止のため、人々の移動を制限する都市封鎖（ロックダウン）を行った国があった。
- イ. パンデミックを宣言し、国際社会における感染拡大を防止するための施策を推進したのは国連環境計画（UNEP）であった。
- ウ. 日本では対面型サービス業や観光業などへの打撃が大きく、一方でテレワークが拡大した。
- エ. 日本では感染の拡大を防止するため、マスクの着用やワクチンの接種が推奨された。

問10 文章中の下線部(i)に関連して、次の図は、主要国の国防費（2023年度）を比較したものである。A～Eに該当する国は日本、中国、韓国、アメリカ、ロシアのいずれかである。CとEの国名の組合せとして最も適切なものを、下記のア～ケの中から1つ選び、その記号をマーク解答用紙の解答欄にマークしなさい。

主要国の国防費比較（2023年度）



（『令和6年版防衛白書』により作成）

- | | | | |
|------|------|---|-----|
| ア. C | アメリカ | E | 日本 |
| イ. C | アメリカ | E | 中国 |
| ウ. C | アメリカ | E | 韓国 |
| エ. C | 中国 | E | ロシア |
| オ. C | 中国 | E | 日本 |
| カ. C | 中国 | E | 韓国 |
| キ. C | ロシア | E | 日本 |
| ク. C | ロシア | E | 中国 |
| ケ. C | ロシア | E | 韓国 |

